



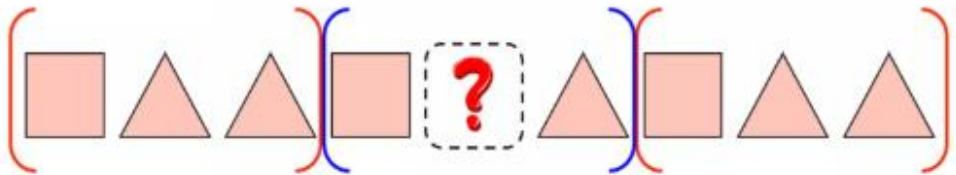
ĐÁP ÁN PHIẾU TƯ DUY MATHX – PHIẾU SỐ 19

Bài 1. Tìm hình còn thiếu.



Hướng dẫn giải:


Ta nhóm 3 hình vào 1 nhóm, dãy trên là sự lặp lại của 3 hình đầu.



Vậy hình còn thiếu để điền vào dấu “?” là hình tam giác.



Bài 2. Tâm và Chi có hai thanh sô-cô-la giống nhau. Tâm vẫn còn nguyên thanh sô-cô-la. Chi đã ăn một vài miếng. Hỏi Chi đã ăn bao nhiêu miếng sô-cô-la?



Hướng dẫn giải:

Chi đã ăn 6 miếng sô-cô-la.



**Bài 3.** 8 bạn học sinh nắm tay nhau tạo thành vòng tròn. Hỏi có bao nhiêu khoảng cách giữa các bạn?



*Hướng dẫn giải:*

Có 8 khoảng cách giữa các bạn.

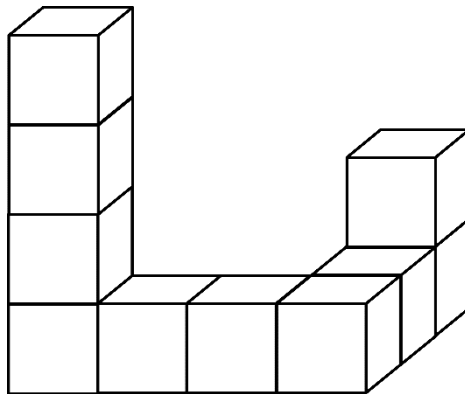
**Bài 4.** Mỗi ngày, cây đậu thần kì của Mina đều có 1 bông hoa. Vào thứ Bảy, trên cây có 9 bông hoa. Hỏi cây bắt đầu ra hoa vào thứ mấy?

*Hướng dẫn giải:*

Vào thứ Bảy tuần trước đó, trên cây có:  $9 - 7 = 2$  (bông hoa)

Vậy cây bắt đầu ra hoa vào thứ Sáu.

**Bài 5.** Hình dưới đây được tạo thành từ bao nhiêu khối lập phương?





(A) 8

(B) 9

(C) 10

(D) 11

Hướng dẫn giải:

Đáp án C.

### GIỚI THIỆU LỚP HỌC ONLINE CÙNG GIÁO VIÊN GIỎI

Trường Toán Online MATHX với các lớp Toán online trực tiếp với giáo viên giỏi. Lớp học dành cho học sinh từ **CƠ BẢN** đến **NÂNG CAO** phù hợp với trình độ của từng bạn (có kiểm tra xếp lớp). Sĩ số 8 - 12 học sinh/lớp giúp giáo viên và học sinh dễ dàng tương tác, giáo viên dễ dàng sát sao tình hình học tập của học sinh.

Phụ huynh học sinh đăng ký **LÀM BÀI KIỂM TRA XẾP LỚP MIỄN PHÍ** tại form: [truongtoanmathx.vn/dangkykiemtra](http://truongtoanmathx.vn/dangkykiemtra)

Xem thông tin chi tiết: [truongtoanmathx.vn](http://truongtoanmathx.vn)

**HOTLINE:** 0867.162.019



TRƯỜNG TOÁN ONLINE MATHX