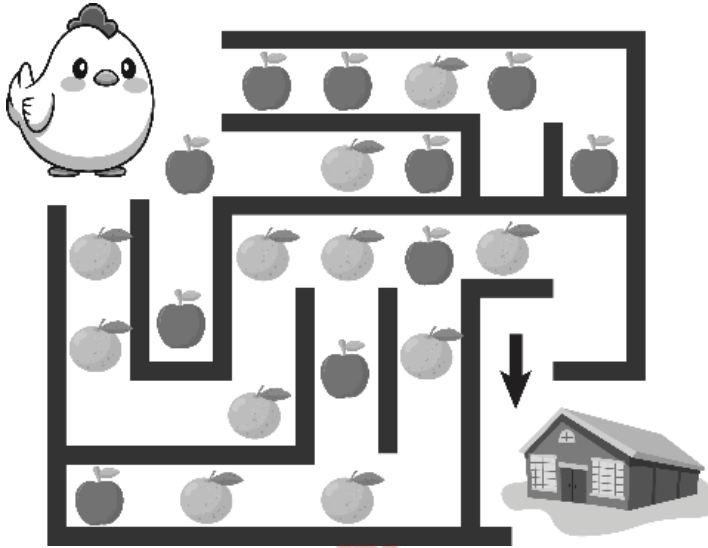


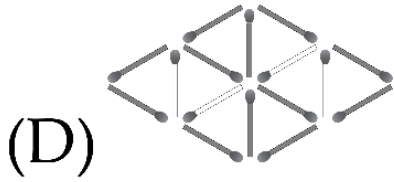
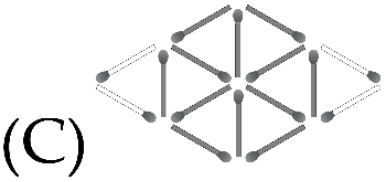
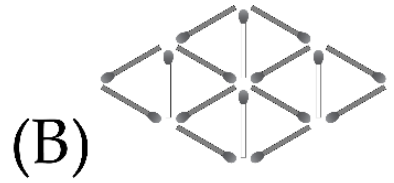
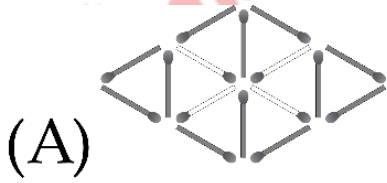


PHIẾU TƯ DUY MATHX – PHIẾU SỐ 05

Bài 1. Cô gà Mimi nhặt một trong hai loại quả (hoặc cam, hoặc táo) trên đường về nhà. Hỏi cô ấy có thể nhặt được nhiều nhất bao nhiêu quả, biết mỗi đường cô chỉ đi qua nhiều nhất một lần?



Bài 2. Hãy chọn 4 que diêm màu trắng bỏ đi để được 6 hình tam giác.

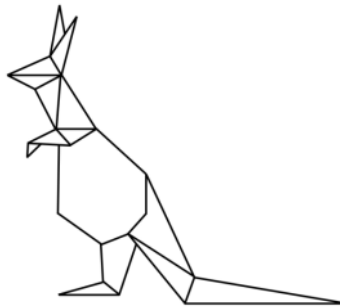




Bài 3. Trong một hàng, đứng trước bạn Min có 6 bạn, đứng sau bạn Min có 3 bạn. Hỏi hàng đó có bao nhiêu bạn?

Bài 4. Có 10 bạn nhỏ đến dự tiệc sinh nhật của Tuấn, 6 trong số đó là các bạn gái. Hỏi có tất cả bao nhiêu bạn trai tại bữa tiệc đó? (Biết rằng Tuấn là một cậu bé trai).

Bài 5. Có bao nhiêu hình tam giác trong hình dưới đây?



(A) 11

(B) 12

(C) 13

(D) 14



Bài toán thử thách: Ba con ếch sống trong một cái ao. Mỗi đêm, một con ếch hát một bài hát cho hai con kia. Sau 9 đêm, một trong những con ếch đã hát 2 lần. Một con ếch khác đã nghe được 5 bài hát. Con ếch thứ ba đã nghe bao nhiêu bài hát?

GIỚI THIỆU LỚP HỌC ONLINE CÙNG GIÁO VIÊN GIỎI

Trường Toán Online MATHX với các lớp Toán online trực tiếp với giáo viên giỏi. Lớp học dành cho học sinh từ **CƠ BẢN** đến **NÂNG CAO** phù hợp với trình độ của từng bạn (có kiểm tra xếp lớp). Sĩ số 8 - 12 học sinh/lớp giúp giáo viên và học sinh dễ dàng tương tác, giáo viên dễ dàng sát sao tình hình học tập của học sinh.

Phụ huynh học sinh đăng ký **LÀM BÀI KIỂM TRA XẾP LỚP MIỄN PHÍ** tại form: truongtoanmathx.vn/dangkykiemtra

Xem thông tin chi tiết: truongtoanmathx.vn

HOTLINE: 0867.162.019



TRƯỜNG TOÁN ONLINE MATHX