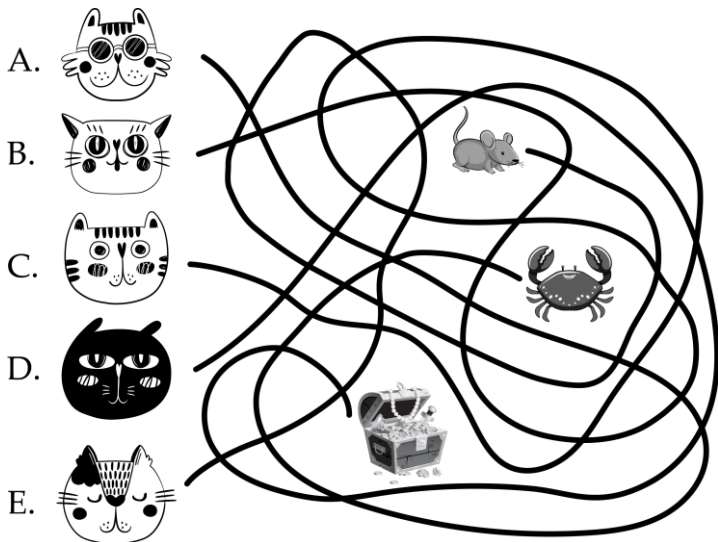


ĐÁP ÁN PHIẾU TƯ DUY MATHX – PHIẾU SỐ 08

Bài 1. Con mèo nào bắt được chuột?




- (A) A (B) B (C) C (D) D (E) E

Hướng dẫn giải:

Đáp án E.

Bài 2. Kết quả của phép tính dưới đây là bao nhiêu?



Hướng dẫn giải:

$$1 + 3 + 5 + 7 + 9 = 25.$$

Đáp số: 25.

Bài 3. Trong một buổi biểu diễn xiếc, 58 khán giả xếp hàng để vào rạp. Bình đứng ở vị trí thứ 22 tính từ đầu hàng. Hỏi có bao nhiêu khán giả còn đứng phía sau Bình?

Hướng dẫn giải:

Có số khán giả đứng phía sau Bình là:

$$58 - 22 = 36 \text{ (khán giả)}$$

Đáp số: 36 khán giả.

Bài 4. Bình có nhiều hơn An 2 viên kẹo. An có 5 viên kẹo. Hỏi Bình có bao nhiêu viên kẹo?

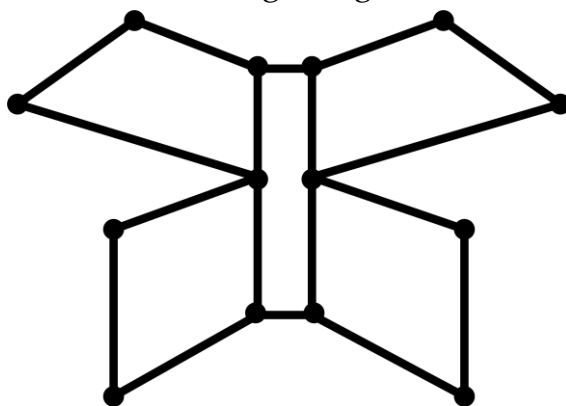
Hướng dẫn giải:

Bình có số viên kẹo là:

$$5 + 2 = 7 \text{ (viên).}$$

Đáp số: 7 viên

Bài 5. Có bao nhiêu đoạn thẳng trong hình dưới đây?



(A) 14

(B) 16

(C) 18

(D) 20

Hướng dẫn giải:

Đáp án D.