



## TOÁN TƯ DUY HÀNG TUẦN LỚP 4 – PHIẾU SỐ 27

### THÁNG 01 – TUẦN 01 – ĐÁP ÁN

Chú ý: Học sinh làm bài, trình bày và so sánh với lời giải thầy gửi. Bài nào sai, các em nên làm lại để hiểu kỹ hơn nữa bài toán đó.

Kiên trì – bền bỉ nhất định sẽ hiệu quả!

**Bài 1.** Theo quy luật, hãy tìm tên của ổ khóa cuối cùng:







Hướng dẫn giải.

Từ ổ khóa đầu ta suy ra  $A = 1$ ;  $D = 4$

Từ ổ khóa thứ 2 ta suy ra  $G = 7$

Vậy ổ khóa cuối cùng sẽ có chữ: GAG

**Bài 2.** Charlest cắt một sợi dây thừng thành 3 phần bằng nhau và sau đó thực hiện một số nút thắt. Hình nào dưới đây thể hiện 3 phần đó sau khi thắt nút?



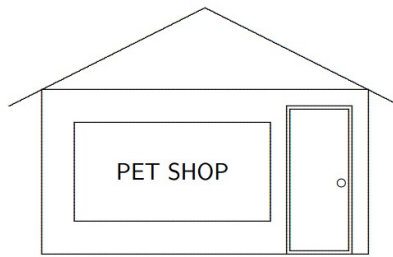
Hướng dẫn giải.

Cần chú ý rằng khi ta càng thắt nhiều nút sẽ làm cho sợi dây của ta càng ngắn lại.

Từ đó ta thấy đáp án B là đáp án đúng.



**Bài 3.** Bạn An đang đứng bên trong cửa hàng và nhìn qua cửa sổ để thấy chữ như hình dưới.



Hỏi bạn ấy nhìn thấy phương án nào dưới đây?

- (A) POHS TEP                      (B) POH2 TEP                      (C) TEP 9OH2  
(D) POH2 TEP                      (E) 9OH2 TEP

*Hướng dẫn giải.*

*Hãy tưởng tượng như bạn đang nhìn hình ảnh của chữ PET SHOP trong gương.*

*Đáp án: E*

**Bài 4.** Điền các số vào ô trống sao cho có đủ các số từ 1 đến 9 sao cho tổng các số trong mỗi hàng, trong mỗi cột đều bằng 15.

	9	
3	5	

*Hướng dẫn giải.*

4	9	2
3	5	7
8	1	6

**Bài 5.** Có một cân đĩa và hai quả cân loại 1kg và 5 kg. Làm thế nào cân được 4 kg gạo qua một lần cân?

-----



Ta đặt quả cân 1kg ở 1 bên cân, bên kia đặt quả cân 5kg. Đổ gạo vào bên cân có quả cân 1kg cho đến khi hai bên thăng bằng, khi đó ta lấy được  $5 - 1 = 4$  kg gạo.  
Chúc các bạn học sinh học vui và yêu toán nhé!



**CLB TOÁN ONLINE MATHX**



**CLB TOÁN ONLINE MATHX**