




TOÁN TƯ DUY HÀNG TUẦN LỚP 3 – PHIẾU SỐ 27 THÁNG 1 – TUẦN 01 – ĐỀ BÀI

Chú ý: Học sinh làm bài, trình bày và so sánh với lời giải thầy gửi. Bài nào sai, các em nên làm lại để hiểu kỹ hơn nữa bài toán đó.

Kiên trì – bền bỉ nhất định sẽ hiệu quả!

Cái nào đắt hơn?

Hoàng đi mua bánh kẹo. Cậu đã mua nhiều bánh quy nhất có thể với số tiền mình có, sau đó cậu dùng tiền còn dư để mua 1 viên sô cô la.



Hỏi một chiếc bánh quy và một viên sô cô la, cái nào đắt hơn?


Hướng dẫn:

Phần tiền dư (không đủ mua bánh quy) mà lại mua được sô cô la nên ta có bánh quy đắt hơn sô cô la.



Đố xúc xắc.

An và Việt chơi xúc xắc. Giữa An và Việt có 3 ô. Việt đổ ra 6 và đã vượt qua An. Hỏi sau khi Việt đi thì giữa Việt và An là mấy ô?



Hướng dẫn: Vẽ hình thấy ngay hai bạn cách nhau 1 bước 😊




CLB TOÁN ONLINE MATHX



CLB TOÁN ONLINE MATHX

Ngồi cách nhau ra.

Ở công viên có ghế băng có thể ngồi được 11 người, có một số người đã ngồi trên ghế. Chỗ ở bên cạnh chỗ có người ngồi luôn bỏ trống. Hỏi có nhiều nhất bao nhiêu người có thể ngồi trên băng ghế?



Hướng dẫn:

Để ngồi nhiều nhất thì sẽ xen kẽ ngồi – bỏ trống 1 ghế - ngồi 1 ghế....

Có thể ngồi được nhiều nhất là 6 người.



CLB TOÁN ONLINE MATHX

Chúc các bạn học sinh học vui và yêu toán nhé!

Chúc các bạn học sinh học vui và yêu toán nhé!



CLB TOÁN ONLINE MATHX