



MathX

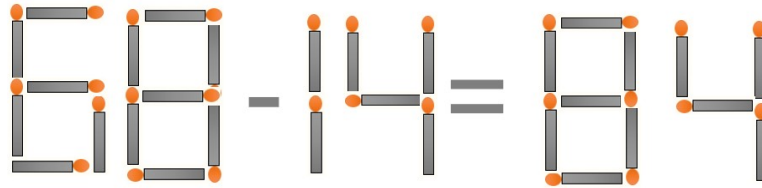
TOÁN TƯ DUY HÀNG TUẦN LỚP 3 – PHIẾU SỐ 26

THÁNG 12 – TUẦN 04 – ĐỀ BÀI

Chú ý: Học sinh làm bài, trình bày và so sánh với lời giải thầy gửi. Bài nào sai, các em nên làm lại để hiểu kỹ hơn nữa bài toán đó.


Kiên trì – bền bỉ nhất định sẽ hiệu quả!

Bài 1. Cho phép toán $68 - 14 = 84$. Đổi 1 que diêm để được phép toán đúng.



Đáp án: Phép toán đúng là: $98 - 14 = 84$.

Bài 2. Các hình dưới đây miêu tả các cân khi so sánh các con vật. Hỏi con vật nào nặng nhất? Con vật nào nhẹ nhất?




Hướng dẫn giải:

Thứ tự cân nặng các con vật là:

Con lừa < Con lợn < Con bò sữa < Con ngựa

Vậy: Nhẹ nhất: Con lừa, nặng nhất: Con ngựa.

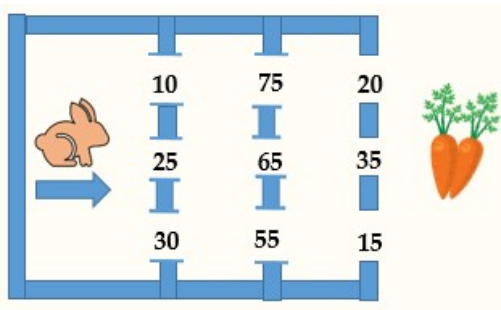
Bài 3. Các ký hiệu: quả dưa, quả táo và quả dưa đại diện cho các chữ số. Hãy tìm xem quả táo là số nào?



CLB TOÁN ONLINE MATHX

Đáp án: Số 2.

Bài 4. Một chú thỏ muốn di chuyển qua các cổng để đến chỗ có củ cà rốt sao cho tổng các số trên các cửa mà chú thỏ đi qua đúng bằng 100.



Hỏi có bao nhiêu cách chú thỏ có thể đi?

Đáp án: 4 cách.

Bài 5. Hãy điền các số vào các ô của bảng dưới đây sao cho tổng các số trong các hàng, các cột và các đường chéo đều bằng nhau.



CLB

		32
	23	
14	35	

MATHX

Đáp án:

26	11	32
29	23	17
14	35	20

Chúc các con học sinh vui học toán!



CLB TOÁN ONLINE MATHX



CLB TOÁN ONLINE MATHX



CLB TOÁN ONLINE MATHX