



TOÁN TƯ DUY HÀNG TUẦN LỚP 4 – PHIẾU SỐ 26
THÁNG 12 – TUẦN 04 – ĐỀ BÀI


Chú ý: Học sinh làm bài, trình bày và so sánh với lời giải thầy gửi. Bài nào sai, các em nên làm lại để hiểu kỹ hơn nữa bài toán đó.

Kiên trì – bền bỉ nhất định sẽ hiệu quả!

Bài 1.

Cái nào đắt hơn?

Hoàng đi mua bánh kẹo. Cậu đã mua nhiều bánh quy nhất có thể với số tiền mình có, sau đó cậu dùng tiền còn dư để mua 1 viên sô cô la.


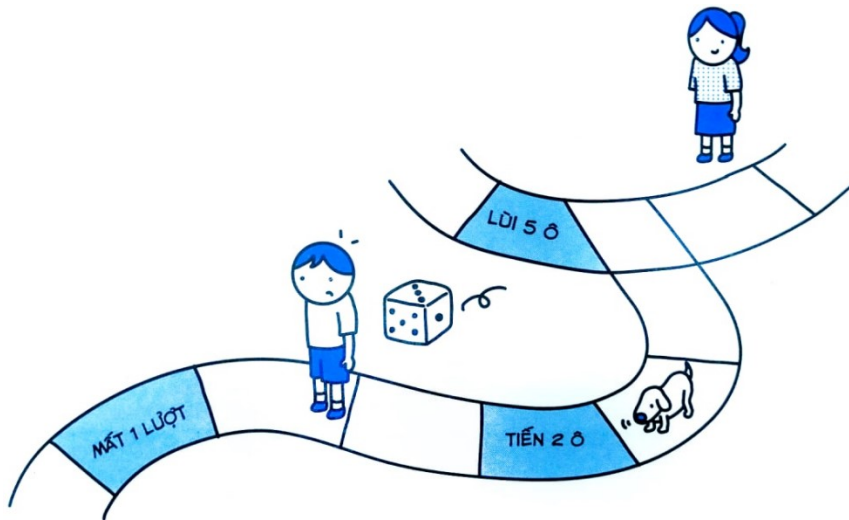


Hỏi một chiếc bánh quy và một viên sô cô la, cái nào đắt hơn?

Bài 2. Đố xúc xắc.


An và Việt chơi xúc xắc. Giữa An và Việt có 3 ô. Việt đổ ra 6 và đã vượt qua An. Hỏi sau khi Việt đi thì giữa Việt và An là mấy ô?





Bài 3. Ngồi cách nhau ra.

Ở công viên có ghế băng có thể ngồi được 11 người, có một số người đã ngồi trên ghế. Chỗ ở bên cạnh chỗ có người ngồi luôn bỏ trống. Hỏi có nhiều nhất bao nhiêu người có thể ngồi trên băng ghế?





CLB TOÁN ONLINE MATHX



CLB TOÁN ONLINE MATHX