

















PHIẾU TƯ DUY MATHX – PHIẾU SỐ 26

Bài 1. Mỗi hình ảnh trái cây được đặt trong bảng dưới đây đại diện cho một con số. Tổng số cho mỗi hàng và cột được hiển thị như bảng dưới đây.

				16
				12
				10
				7
11	12	10	12	

Tính  +  = ?

Bài 2. Tính nhanh:

a) $9999 + 99 + 2$

b) $9998 + 998 + 4$



Bài 3. Trong một căn phòng, tất cả mọi người đều bắt tay với nhau 1 lần. Có tổng cộng 15 cái bắt tay. Hỏi trong căn phòng đó có bao nhiêu người?

Bài 4. Pi viết liên tục cụm từ KYTHITOANMMOC thành dãy chữ sau: KYTHITOANMMOCKYTHITOANMMOC....

Hỏi chữ cái thứ 2023 là chữ gì?

Bài 5. Các chữ cái khác nhau là các chữ số khác nhau. Chữ cái B có giá trị bằng bao nhiêu?

$$\begin{array}{r}
 ABC \\
 + \quad ABC \\
 \hline
 ABC \\
 \hline
 CCC
 \end{array}$$
