



MathX

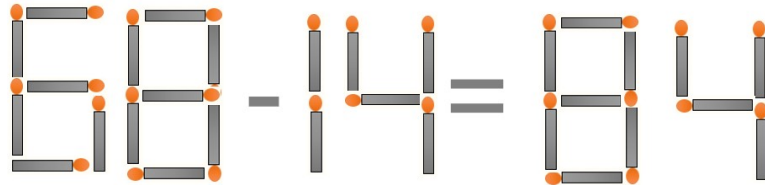
TOÁN TƯ DUY HÀNG TUẦN LỚP 3 – PHIẾU SỐ 26

THÁNG 12 – TUẦN 04 – ĐỀ BÀI


Chú ý: Học sinh làm bài, trình bày và so sánh với lời giải thầy gửi. Bài nào sai, các em nên làm lại để hiểu kỹ hơn nữa bài toán đó.

Kiên trì – bền bỉ nhất định sẽ hiệu quả!

Bài 1. Cho phép toán $68 - 14 = 84$. Đổi 1 que diêm để được phép toán đúng.



Bài 2. Các hình dưới đây miêu tả các cân khi so sánh các con vật. Hỏi con vật nào nặng nhất? Con vật nào nhẹ nhất?



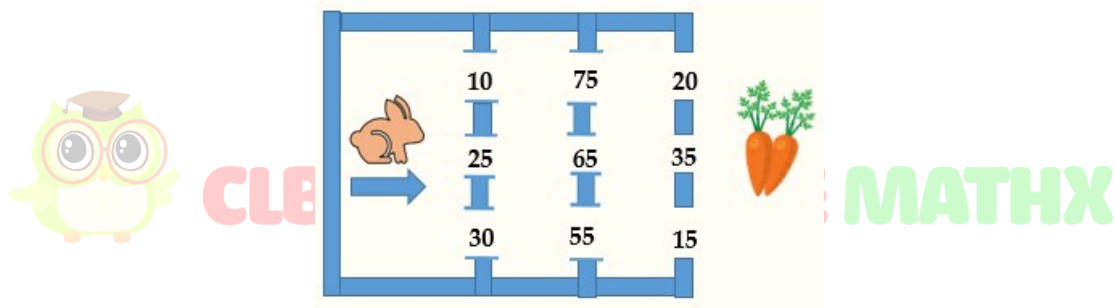
Bài 3. Các ký hiệu: quả dưa, quả táo và quả dưa đại diện cho các chữ số. Hãy tìm xem quả táo là số nào?



CLB TOÁN ONLINE MATHX

$$\begin{array}{r}
 \text{Apple} \quad \text{Pineapple} \quad \text{Pineapple} \\
 + \quad \text{Watermelon slice} \quad \text{Apple} \\
 \quad \quad \quad \text{Apple} \\
 \hline
 2 \quad 8 \quad 7
 \end{array}$$

Bài 4. Một chú thỏ muốn di chuyển qua các cổng để đến chỗ có củ cà rốt sao cho tổng các số trên các cửa mà chú thỏ đi qua đúng bằng 100.



Hỏi có bao nhiêu cách chú thỏ có thể đi?

Bài 5. Hãy điền các số vào các ô của bảng dưới đây sao cho tổng các số trong các hàng, các cột và các đường chéo đều bằng nhau.

		32
	23	
14	35	



CLB TOÁN ONLINE MATHX

