



MathX

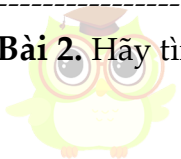
TOÁN TƯ DUY HÀNG TUẦN LỚP 4 – PHIẾU SỐ 25
THÁNG 12 – TUẦN 03 – ĐỀ BÀI

Chú ý: Học sinh làm bài, trình bày và so sánh với lời giải thầy gửi. Bài nào sai, các em nên làm lại để hiểu kỹ hơn nữa bài toán đó.

Kiên trì – bền bỉ nhất định sẽ hiệu quả!

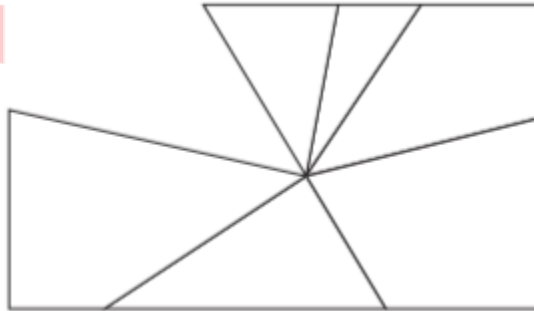
Bài 1. Trong một cửa hàng, có 3 kích cỡ hộp đựng cam: hộp đựng 5 quả, hộp đựng 9 quả và hộp đựng 10 quả. Linh muốn mua chính xác 48 quả cam. Số hộp cam ít nhất mà bạn ấy cần phải mua là bao nhiêu hộp và thuộc loại kích cỡ nào?

Bài 2. Hãy tìm mảnh vỡ của gương hình chữ nhật dưới đây.



CU

MATHX



- (A)
- (B)
- (C)
- (D)
- (E)




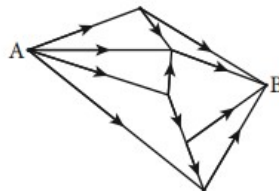
CLB TOÁN ONLINE MATHX

Bài 3. Đồng hồ điện tử ở hình dưới đang hiển thị hai chữ số khác nhau.



Có bao nhiêu lần trong ngày đồng hồ hiển thị 4 chữ số giống hệt nhau?

 **Bài 4.** Có bao nhiêu cách đi từ A đến B theo chiều mũi tên như hình dưới đây?



Bài 5. Giá thuê thuyền được quảng cáo như sau:



