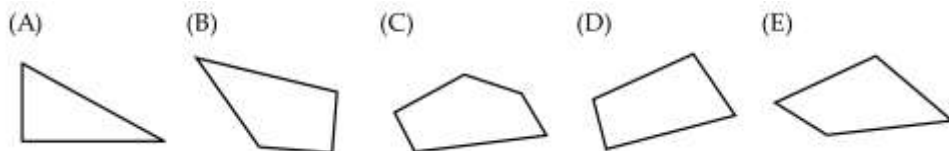
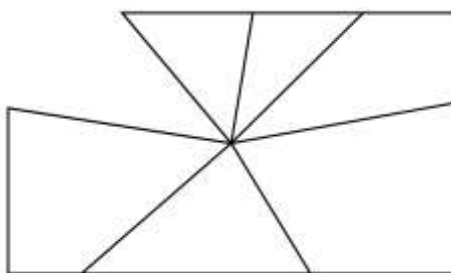




PHIẾU TƯ DUY MATHX – PHIẾU SỐ 25

Bài 1. Trong một cửa hàng, có 3 kích cỡ hộp đựng cam: hộp đựng 5 quả, hộp đựng 9 quả và hộp đựng 10 quả. Linh muốn mua chính xác 48 quả cam. Số hộp cam ít nhất mà bạn ấy cần phải mua là bao nhiêu hộp và thuộc loại kích cỡ nào?

Bài 2. Hãy tìm mảnh vỡ của gương hình chữ nhật dưới đây.

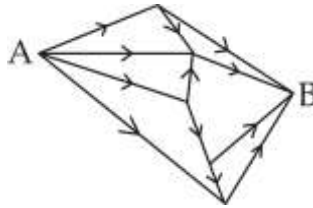


Bài 3. Đồng hồ điện tử ở hình dưới đang hiển thị hai chữ số khác nhau. Có bao nhiêu lần trong ngày đồng hồ hiển thị 4 chữ số giống hệt nhau?





Bài 4. Có bao nhiêu cách đi từ A đến B theo chiều mũi tên như hình dưới đây?



Bài 5. Giá thuê thuyền được quảng cáo như sau:



Hỏi giá rẻ nhất để thuê thuyền cho 1 nhóm gồm 4 người lớn và 2 trẻ con dưới 14 tuổi là bao nhiêu?

Bài toán thử thách: Đồng hồ điện tử hiển thị giờ và phút, ví dụ, 13:08 (13 giờ 8 phút). Cậu bé Anton rất thích con số 5 và cậu ấy đang chờ đợi khi con số này xuất hiện trên đồng hồ. Khoảng thời gian dài nhất mà Anton có thể ngắm nhìn con số 5 mà không bị gián đoạn là bao lâu?