

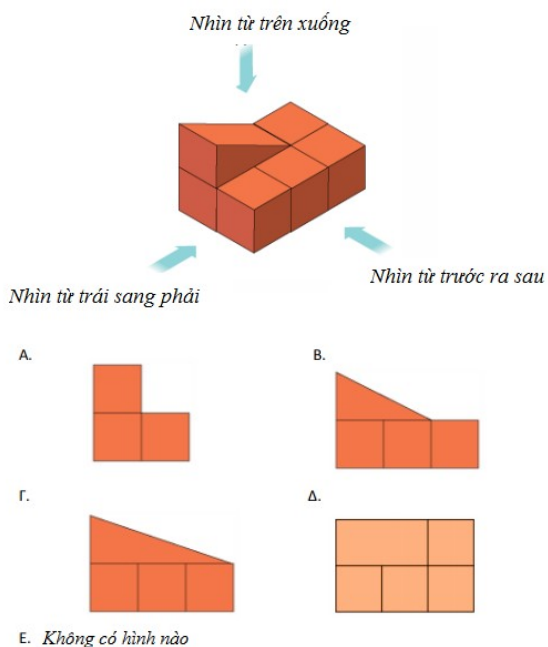


TOÁN TƯ DUY HÀNG TUẦN LỚP 4 – PHIẾU SỐ 24
THÁNG 12 – TUẦN 02 – ĐÁP ÁN

Chú ý: Học sinh làm bài, trình bày và so sánh với lời giải thầy gửi. Bài nào sai, các em nên làm lại để hiểu kỹ hơn nữa bài toán đó.

Kiên trì – bền bỉ nhất định sẽ hiệu quả!

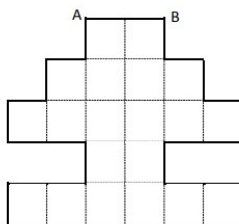
Bài 1. Nhìn hình dưới đây theo hướng từ trước ra sau thì nhận được hình nào?



ONLINE MATHX

Đáp án: B

Bài 2. Cho biết cạnh $AB = 4\text{cm}$, tìm chu vi của hình dưới đây:



Hướng dẫn:

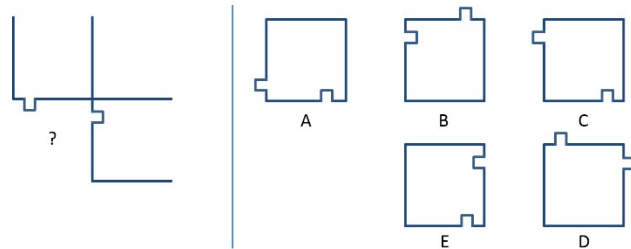
Mỗi cạnh của hình vuông nhỏ có độ dài là 2cm .

Chu vi của hình trên là: $30 \times 2 = 60\text{cm}$

Bài 3. Mảnh ghép nào phù hợp để ghép vào hình dưới đây?

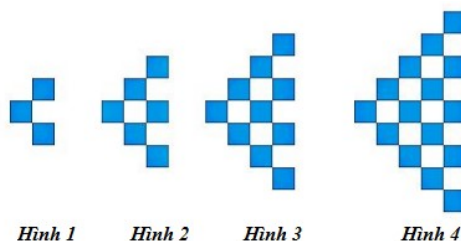


CLB TOÁN ONLINE MATHX



Đáp án: A

Bài 4. Theo quy luật dưới đây, hình thứ 6 có bao nhiêu ô vuông được bôi xám?



Đáp án: $1 + 2 + 3 + 4 + 5 + 6 + 7 = 28$ ô vuông bôi xám

Bài 5. Quan sát các phép toán sau đây:

$$5 \otimes 2 = 5 + 55 = 60$$

$$1 \otimes 3 = 1 + 11 + 111 = 123$$

$$2 \otimes 4 = 2 + 22 + 222 + 2222 = 2468$$

Tìm giá trị của $4 \otimes 5$?

Hướng dẫn:

$$4 \otimes 5 = 4 + 44 + 444 + 4444 + 44444 = 49380$$

