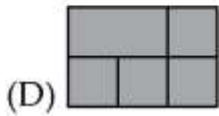
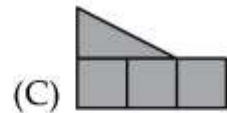
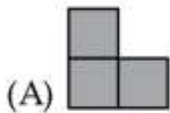
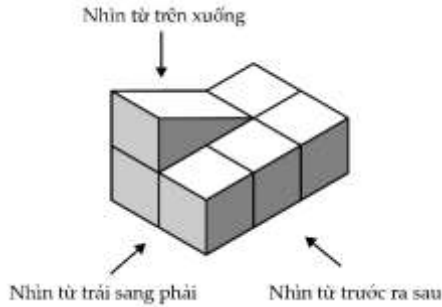




**ĐÁP ÁN PHIẾU TƯ DUY MATHX – PHIẾU SỐ 24**

**Bài 1.** Nhìn hình dưới đây theo hướng từ trước ra sau thì nhận được hình nào?

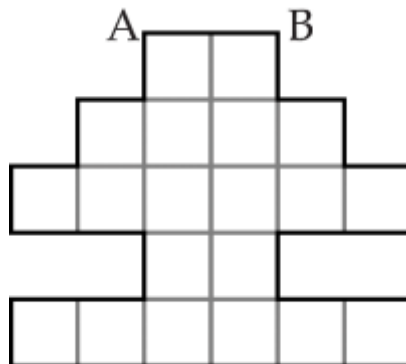


(E) Không có hình nào.

*Hướng dẫn giải:*

Đáp án: B.

**Bài 2.** Cho biết cạnh  $AB = 4$  cm, tìm chu vi của hình dưới đây:



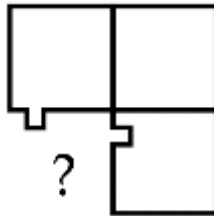
*Hướng dẫn giải:*

Mỗi cạnh của hình vuông nhỏ có độ dài là: 2 cm.

Chu vi của hình trên là:  $30 \times 2 = 60$  cm.



**Bài 3.** Mảnh ghép nào phù hợp để ghép vào hình dưới đây?



(A)



(B)



(C)



(D)




(E)

*Hướng dẫn giải:*

Đáp án: A.

**Bài 4.** Theo quy luật dưới đây, hình thứ 6 có bao nhiêu ô vuông được bôi xám?



Hình 1

Hình 2

Hình 3

Hình 4

*Hướng dẫn giải:*

Đáp án:  $1 + 2 + 3 + 4 + 5 + 6 + 7 = 28$  ô vuông bôi xám.

**Bài 5.** Quan sát các phép toán sau đây:

$$5 \odot 2 = 5 + 55 = 60;$$

$$1 \odot 3 = 1 + 11 + 111 = 123;$$

$$2 \odot 4 = 2 + 22 + 222 + 2222 = 2468.$$

Tìm giá trị của  $4 \odot 5$ .

*Hướng dẫn giải*

$$4 \odot 5 = 4 + 44 + 444 + 4444 + 44444 = 49380.$$