



MathX

# TOÁN TƯ DUY HÀNG TUẦN LỚP 3 – PHIẾU SỐ 25

## THÁNG 12 – TUẦN 03 – ĐỀ BÀI

Chú ý: Học sinh làm bài, trình bày và so sánh với lời giải thầy gửi. Bài nào sai, các em nên làm lại để hiểu kỹ hơn nữa bài toán đó.

Kiên trì – bền bỉ nhất định sẽ hiệu quả!

**Bài 1.** Tìm giá trị của M và N trong phép toán sau:


$$\begin{array}{r}
 M \quad 4 \\
 - \quad 3 \quad N \\
 \hline
 1 \quad 6
 \end{array}$$

-----

-----

-----

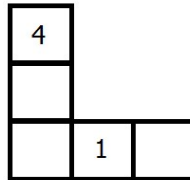
-----



# CLB TOÁN ONLINE MATHX

**Bài 2.**

Điền các số từ 1 đến 5 vào các ô vuông (số 1 và 4 đã được điền sẵn) sao cho tổng 3 số ở cột bằng tổng 3 số ở hàng.



-----

-----

-----

-----

**Bài 3.** Các số được đặt trong các ô vuông của bảng dưới đây sao cho tổng của các số trên các hàng và các cột đều bằng nhau. Số còn thiếu trong hai ô vuông là các số nào?

-----



CLB TOÁN ONLINE MATHX

7	6	?
?	8	4
5	10	9

---

---

---

---

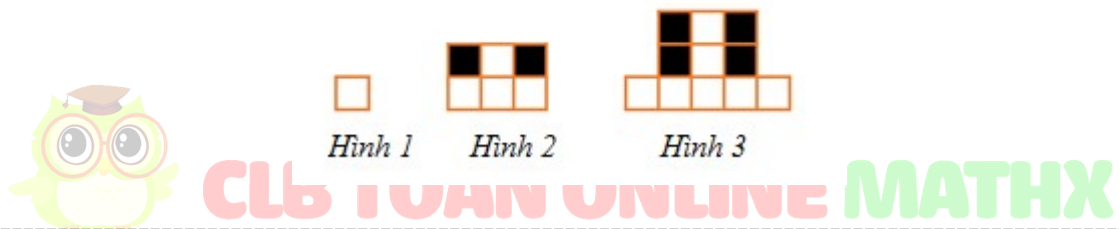
---

---

---

---

**Bài 4.** Hình thứ 10 có bao nhiêu ô vuông màu đen?




---

---

---

---

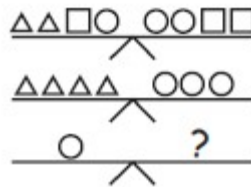
---

---

---

---

**Bài 5.** Cần bao nhiêu ô vuông nhỏ đặt vào bên cân dấu “?” để cân thăng bằng. Biết rằng hai cân ở trên đó đã thăng bằng.




---

---

---

---

---

---

---

---



# CLB TOÁN ONLINE MATHX



**CLB TOÁN ONLINE MATHX**