



MathX

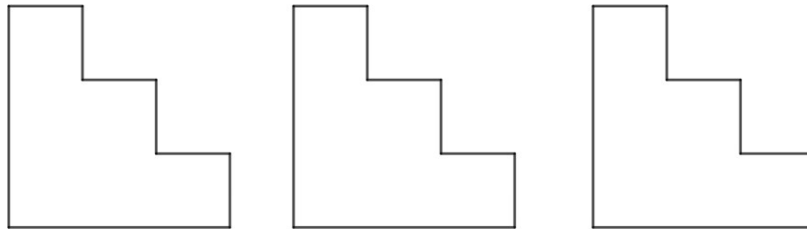
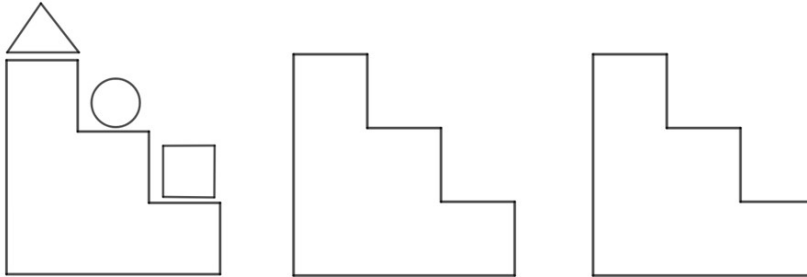
TOÁN TƯ DUY HÀNG TUẦN LỚP 2 – PHIẾU SỐ 25

THÁNG 12 – TUẦN 03 – ĐỀ BÀI

Chú ý: Học sinh làm bài, trình bày và so sánh với lời giải thầy gửi. Bài nào sai, các em nên làm lại để hiểu kỹ hơn nữa bài toán đó.

Kiên trì – bền bỉ nhất định sẽ hiệu quả!

Bài 1. Hãy sắp xếp các hình tam giác, tròn, vuông vào các bậc cầu thang theo nhiều cách khác nhau: (ở hình đầu tiên là một ví dụ cách sắp xếp)



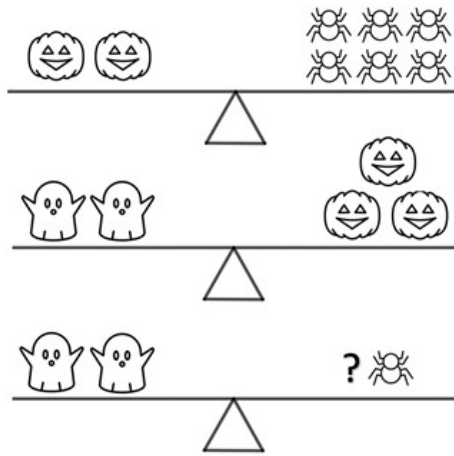
Five sets of horizontal dashed lines for writing answers.

Bài 2. Quan sát hình và cho biết 2 con ma bằng bao nhiêu con nhện?

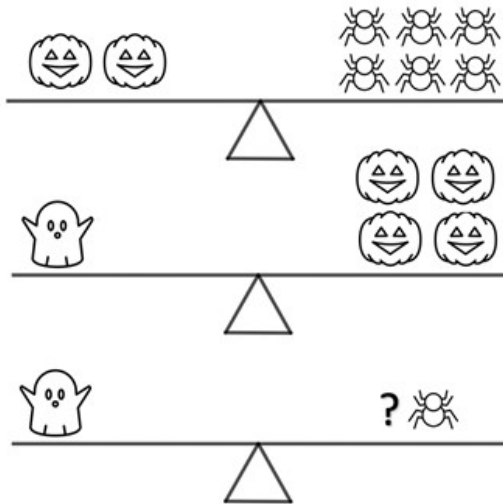
One set of horizontal dashed lines for writing the answer.



CLB TOÁN ONLINE MATHX




Bài 3. Quan sát hình và cho biết một con ma bằng bao nhiêu con nhện?



Bài 4. Điền dấu phép tính (+, -) thích hợp vào chỗ ... rồi viết những chữ số thích hợp vào dấu *:

a) $2^* \dots *4 = 6$

b) $65 \dots *5 = 10^*$

 **CLB TOÁN ONLINE MATHX**
Bài 5. Cho các số 0, 2, 3, 4. Hỏi từ các số đã cho, lập được bao nhiêu số có 2 chữ số khác nhau?

Phụ huynh/học sinh tham khảo lớp online học toán tư duy cùng giáo viên giỏi của MATHX tại đây: <http://truongtoanonline.mathx.vn/>
hoặc liên hệ hotline/zalo: 0866.162.019



CLB TOÁN ONLINE MATHX



CLB TOÁN ONLINE MATHX