



MathX

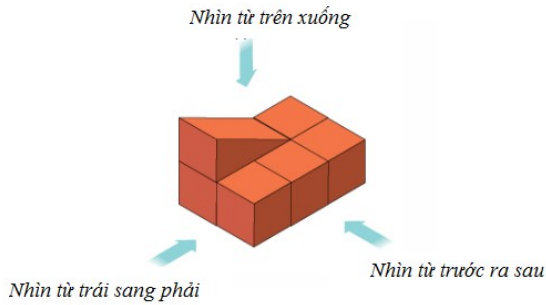
TOÁN TƯ DUY HÀNG TUẦN LỚP 4 – PHIẾU SỐ 24

THÁNG 12 – TUẦN 02 – ĐỀ BÀI

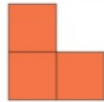
Chú ý: Học sinh làm bài, trình bày và so sánh với lời giải thầy gửi. Bài nào sai, các em nên làm lại để hiểu kỹ hơn nữa bài toán đó.

Kiên trì – bền bỉ nhất định sẽ hiệu quả!

Bài 1. Nhìn hình dưới đây theo hướng từ trước ra sau thì nhận được hình nào?



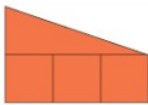
A.



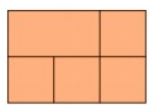
B.



C.



D.



E. Không có hình nào

ONLINE MATHX

Bài 2. Cho biết cạnh $AB = 4\text{cm}$, tìm chu vi của hình dưới đây:



CLB TOÁN ONLINE MATHX

