



MathX

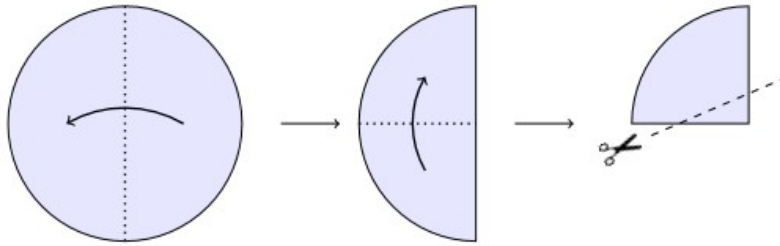
TOÁN TƯ DUY HÀNG TUẦN LỚP 2 – PHIẾU SỐ 23

THÁNG 12 – TUẦN 01 – ĐỀ BÀI

Chú ý: Học sinh làm bài, trình bày và so sánh với lời giải thầy gửi. Bài nào sai, các em nên làm lại để hiểu kỹ hơn nữa bài toán đó.

Kiên trì – bền bỉ nhất định sẽ hiệu quả!

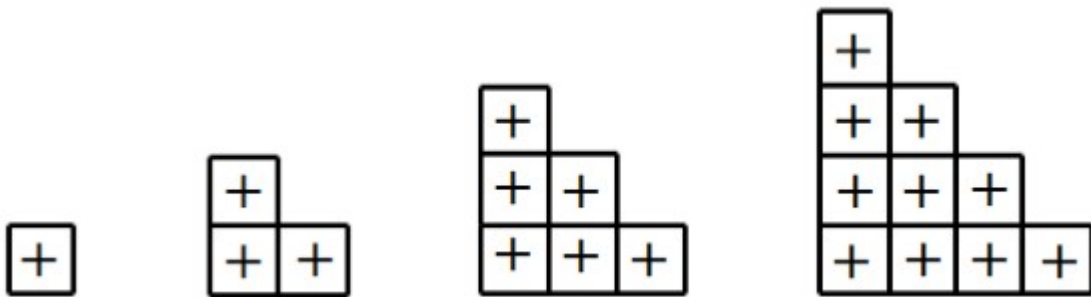
Bài 1. Một tờ giấy hình tròn được gấp 2 lần sau đó cắt theo đường nét đứt như hình dưới đây.

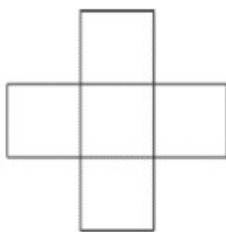


Hỏi sau khi mở tờ giấy đó ra, ta nhận được hình nào dưới đây:

- (A)
- (B)
- (C)
- (D)
- (E)

Bài 2. Theo quy luật dưới đây thì có bao nhiêu hình “+” ở hình thứ 7?





Phụ huynh/học sinh tham khảo lớp học toán tư duy có giáo viên dạy trực tuyến
tại đây: <http://truongtoanonline.mathx.vn/>
hoặc liên hệ hotline/zalo: 0866.162.019

CLB TOÁN ONLINE MATHX



CLB TOÁN ONLINE MATHX