



**MathX**

## TOÁN TƯ DUY HÀNG TUẦN LỚP 5 – PHIẾU 22

THÁNG 11 – TUẦN 04 – ĐỀ BÀI

*Chú ý: Học sinh làm bài, trình bày và so sánh với lời giải thầy gửi. Bài nào sai, các em nên làm lại để hiểu kỹ hơn nữa bài toán đó.*

*Kiên trì – bền bỉ nhất định sẽ hiệu quả!*

**Bài 1.** Nếu tăng chiều dài của hình chữ nhật lên 3m và giữ nguyên chiều rộng thì diện tích của hình chữ nhật đó tăng lên  $12\text{m}^2$ . Hỏi chiều rộng của hình chữ nhật bằng bao nhiêu m?

---

---

---


---

---

---

---

---



**CLB TOÁN ONLINE MATHX**

**Bài 2.** Bác Tư có 5 giỏ cam tổng cộng có 538 quả. Nếu bác Tư thêm 2 quả cam vào giỏ thứ nhất, 4 quả cam vào giỏ thứ hai, 8 quả cam vào giỏ thứ ba, 16 quả cam vào giỏ thứ tư và 32 quả cam vào giỏ thứ năm. Bác Tư thấy rằng, số quả cam ở mỗi giỏ lúc đó đều bằng nhau. Hỏi giỏ thứ nhất ban đầu chứa bao nhiêu quả cam?

---

---

---

---

---

---

---


---



**CLB TOÁN ONLINE MATHX**

-----  
-----  
**Bài 3.** Trong hộp có 4 trái banh với 4 màu khác nhau: đỏ, vàng, xanh, đen. Trái banh màu đỏ thì nặng hơn trái banh màu vàng nhưng nhẹ hơn trái banh màu xanh. Trái banh màu đen thì nhẹ hơn trái banh màu đỏ nhưng nặng hơn trái banh màu vàng. Hãy sắp xếp các trái banh theo thứ tự khối lượng giảm dần.

- (A) Xanh – đỏ - vàng - đen
  - (B) Vàng – đen – xanh- đỏ
  - (C) Đen – vàng – đỏ - xanh
  - (D) Xanh – đỏ - đen - vàng
  - (E) Vàng – đỏ - đen - xanh
- -----  
-----  
-----  
-----  
-----  
-----  
-----  
-----  
-----



**CLB TOÁN ONLINE MATHX**

-----  
-----  
-----  
-----  
-----  
-----  
-----  
-----  
-----  
-----

**Bài 4.** Pi viết liên tục cụm từ KYTHITOANMMOC thành dãy chữ sau:

KYTHITOANMMOCKYTHITOANMMOCKYTHITOANMMOC ....


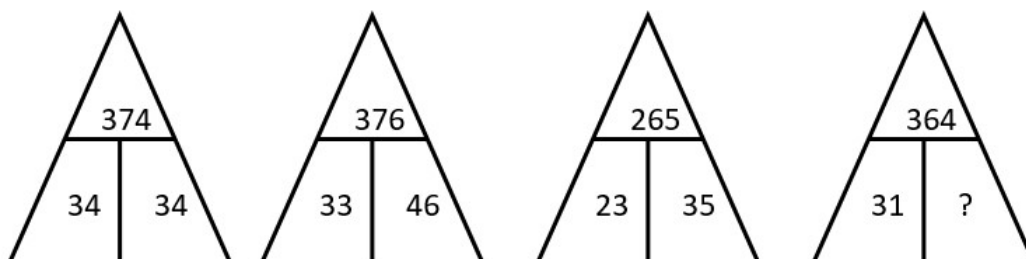
Hỏi chữ cái thứ 2023 là chữ gì?

-----  
-----  
-----  
-----  
-----  
-----  
-----  
-----  
-----  
-----



**CLB TOÁN ONLINE MATHX**

Bài 5. Tìm số còn thiếu của tam giác cuối cùng.



CLB TOÁN ONLINE MATHX



CLB TOÁN ONLINE MATHX