



MathX


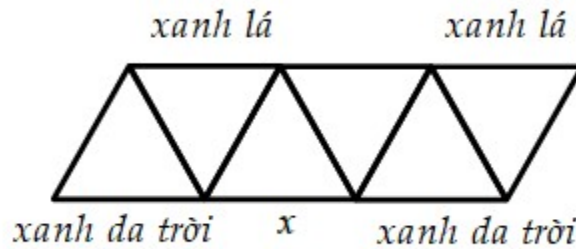
TOÁN TƯ DUY HÀNG TUẦN LỚP 3 – PHIẾU SỐ 22

THÁNG 11 – TUẦN 04 – ĐỀ BÀI

Chú ý: Học sinh làm bài, trình bày và so sánh với lời giải thầy gửi. Bài nào sai, các em nên làm lại để hiểu kỹ hơn nữa bài toán đó.

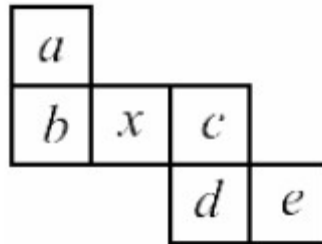
Kiên trì – bền bỉ nhất định sẽ hiệu quả!

Bài 1. Hình dưới đây mô tả màu sắc của một số đoạn thẳng. Luis muốn tô màu các đoạn thẳng còn lại bởi 1 trong 3 màu: đỏ, xanh da trời và xanh lá cây. Mỗi tam giác phải có ba cạnh có đủ ba màu. Hỏi màu cần tô cho đoạn thẳng có đánh dấu x là màu gì?



CLB TOÁN ONLINE MATHX

Bài 2. Hình dưới đây được gấp lại để tạo thành 1 hình lập phương. Hỏi mặt nào sẽ đối diện với mặt có đánh dấu x?



CLB TOÁN ONLINE MATHX

Bài 3. Tìm số bé nhất có tổng các chữ số bằng 25 và các chữ số khác nhau.

Bài 4. Cho biết:

$$\square\square\square\square\square\square + \star\star\star\star = 50$$
$$\square + \star = 11$$

MATHX

Tìm giá trị của một hình vuông, một hình sao.

Bài 5. Biết A và B là các số có một chữ số phân biệt, hỏi A là bao nhiêu để phép toán dưới đây là đúng?



$$\begin{array}{|c|c|} \hline A & B \\ \hline \end{array} + \begin{array}{|c|} \hline B \\ \hline \end{array} = \begin{array}{|c|c|} \hline B & 4 \\ \hline \end{array}$$



CLB TOÁN ONLINE MATHX



CLB TOÁN ONLINE MATHX