



**MathX**

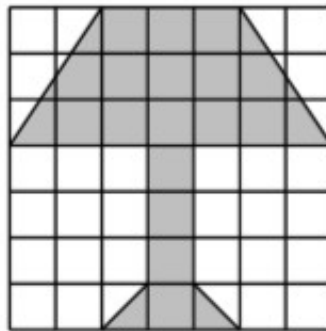
# TOÁN TƯ DUY HÀNG TUẦN LỚP 5 – PHIẾU 20

## THÁNG 11 – TUẦN 02 – ĐỀ BÀI

*Chú ý: Học sinh làm bài, trình bày và so sánh với lời giải thầy gửi. Bài nào sai, các em nên làm lại để hiểu kỹ hơn nữa bài toán đó.*

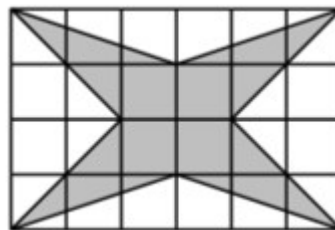
*Kiên trì – bền bỉ nhất định sẽ hiệu quả!*

**Bài 1.** Mỗi ô vuông nhỏ có diện tích  $1\text{cm}^2$ . Hãy tìm diện tích phần bôi xám.



**CLB TOÁN ONLINE MATHX**

**Bài 2.** Mỗi ô vuông nhỏ có diện tích  $1\text{cm}^2$ . Hãy tìm diện tích phần bôi xám.



**CLB TOÁN ONLINE MATHX**

---

---

---

---

---

---

---

---

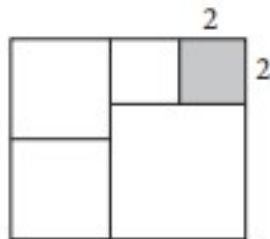
---

---

**Bài 3.** Hình chữ nhật được chia thành 5 hình vuông nhỏ như hình vẽ dưới đây. Biết cạnh của hình vuông bôi xám là 2cm. Tính chiều dài của hình chữ nhật.



CLB T



NE MATHX

---

---

---

---

---

---

---

---

---

---

**Bài 4.** Mỗi ô vuông nhỏ có diện tích  $4\text{cm}^2$ . Hãy tìm diện tích phần bôi xám.

---





-----

-----

-----

-----

-----



# CLB TOÁN ONLINE MATHX

-----



**CLB TOÁN ONLINE MATHX**