



MathX

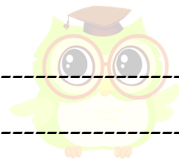
TOÁN TƯ DUY HÀNG TUẦN LỚP 2 – PHIẾU SỐ 20

THÁNG 11 – TUẦN 02 – ĐỀ BÀI

Chú ý: Học sinh làm bài, trình bày và so sánh với lời giải thầy gửi. Bài nào sai, các em nên làm lại để hiểu kỹ hơn nữa bài toán đó.

Kiên trì – bền bỉ nhất định sẽ hiệu quả!

Bài 1. Hãy tô màu 4 bông hoa ở hình bên bằng màu đỏ hoặc màu vàng sao cho số bông hoa màu đỏ ít hơn số bông hoa màu vàng. Bé chú ý tô sao cho có cả hai loại hoa đỏ và hoa vàng nhé.



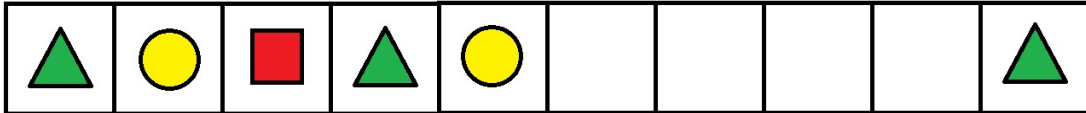
CLB TOÁN ONLINE MATHX


Bài 2. Bé hãy tô màu 7 chiếc ô tô dưới đây bằng 3 màu: Xanh, Đỏ, Vàng sao cho số xe ô tô màu vàng ít hơn số xe ô tô màu đỏ nhưng lại nhiều hơn số xe ô tô màu xanh. (Bé hãy thử tô nhiều cách nhất có thể nhé 😊)



CLB TOÁN ONLINE MATHX

Bài 3. Bạn Bảo Khánh xếp các hình theo quy luật như dưới đây và đố bạn Bảo Khánh hình thứ 8 tính từ trái sang là hình gì và Bạn Bảo Khánh trả lời chính xác. Bé có biết bạn Bảo Khánh trả lời là hình gì không nào?





CLB TOÁN ONLINE MATHX

Bài 4. Chú Hiếu béo có dãy các số “ảo thuật” được đặt vào các ô vuông sao cho tổng 3 số ở 3 ô vuông liên nhau đều bằng 10. Bé hãy giúp chú tìm số ở ô vuông có dấu “?” nhé.

2	3								?
---	---	--	--	--	--	--	--	--	---



CLB TOÁN ONLINE MATHX

Bài 5. Trong hộp có 3 viên bi đỏ và 1 viên bi xanh. Hai bạn Nam và Hùng mỗi bạn lấy ra 1 viên bi. Sau khi Hùng nhìn viên bi mà mình đã lấy ra thì Hùng đã có thể nói đúng được màu của viên bi mà bạn Nam lấy ra. Em có thể suy luận để chỉ ra màu của viên bi mà mỗi bạn đã lấy ra được không?



CLB TOÁN ONLINE MATHX



CLB TOÁN ONLINE MATHX