




TOÁN TƯ DUY HÀNG TUẦN LỚP 3 – PHIẾU SỐ 19 THÁNG 11 – TUẦN 01 – ĐỀ BÀI

Chú ý: Học sinh làm bài, trình bày và so sánh với lời giải thầy gửi. Bài nào sai, các em nên làm lại để hiểu kỹ hơn nữa bài toán đó.

Kiên trì – bền bỉ nhất định sẽ hiệu quả!

Bài 1. Đức và 4 đứa trẻ khác cùng nhau tham gia một cuộc chạy đua. Nếu Đức vượt qua đứa trẻ về thứ hai, hỏi Đức hiện giờ ở vị trí thứ mấy?

Bài 2. David mất 30 giây để leo từ tầng 1 đến tầng 3. Hỏi anh ấy mất bao nhiêu giây để leo từ tầng 3 đến tầng 6? (Biết rằng số bậc cầu thang giữa các tầng đều bằng nhau)



Bài 3. Cách đây 2 năm thì tổng số tuổi của Amy và Bob là 8 tuổi. Hỏi 3 năm sau thì tổng số tuổi của hai bạn bằng bao nhiêu?

Bài 4. Tính:


$$1 + 3 + 5 + 7 + 9 + 12 + 14 + 16 + 18 + 21 + 23 + 25 + 27 + 29 =$$



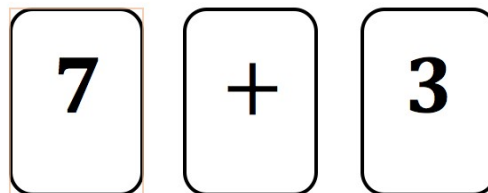
Bài 5. Trong một buổi biểu diễn ảo thuật, nhà ảo thuật đặt 3 tấm thẻ bài lên bàn (như hình bên dưới). Với mỗi tấm thẻ bài, một mặt có phép toán và mặt còn lại là con số.



CLB TOÁN ONLINE MATHX



Sau khi cho khán giả xem các tấm bìa, nhà ảo thuật đảo mặt một số lá bài (có thể là tất cả) và xếp theo một thứ tự khác nào đó. Dưới đây là cách xếp mới của các lá bài.



Hỏi mặt còn lại của tấm thẻ bài có dấu '+' là số nào?



CLB TOÁN ONLINE MATHX



CLB TOÁN ONLINE MATHX



CLB TOÁN ONLINE MATHX