



MathX

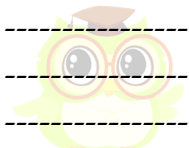
TOÁN TƯ DUY HÀNG TUẦN LỚP 5 – PHIẾU 18

THÁNG 10 – TUẦN 05 – ĐỀ BÀI

Chú ý: Học sinh làm bài, trình bày và so sánh với lời giải thầy gửi. Bài nào sai, các em nên làm lại để hiểu kỹ hơn nữa bài toán đó.

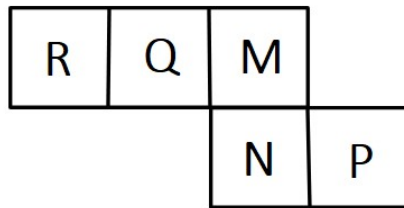
Kiên trì – bền bỉ nhất định sẽ hiệu quả!

Bài 1. Cho dãy số: 1; 4; 7; 10; 13; 16; Tìm hai số hạng tiếp theo của dãy số trên.



CLB TOÁN ONLINE MATHX

Bài 2. (Trích đề thi vào lớp 6 trường Hà Nội Amsterdam 2023)



Khi gấp lại thành hình lập phương không có nắp thì mặt đáy là chứa chữ cái nào?



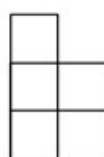
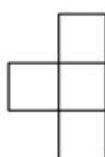

CLB TOÁN ONLINE MATHX

Bài 3. (Trích đề thi vào lớp 6 trường Hà Nội Amsterdam 2022)

Tính: $\left(1 - \frac{1}{2}\right) \times \left(1 - \frac{1}{3}\right) \times \left(1 - \frac{1}{4}\right) \times \dots \times \left(1 - \frac{1}{2022}\right)$

Bài 4. (Trích đề thi vào lớp 6 trường Hà Nội Amsterdam 2022)

Ghép 4 mảnh sau thành một hình chữ nhật và tính chu vi của hình đó. Biết mỗi cạnh hình vuông nhỏ có độ dài là 1cm.



IE MATHX



