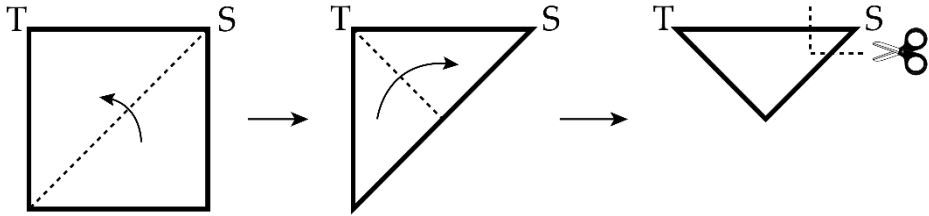
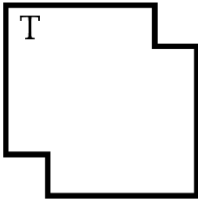
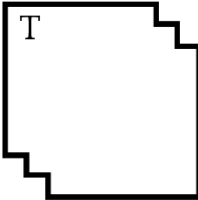
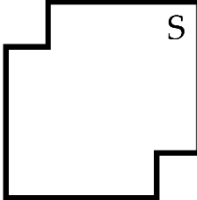

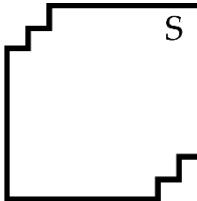


PHIẾU TƯ DUY MATHX – PHIẾU SỐ 17


Bài 1. Người ta gấp tờ giấy theo thứ tự và hướng gấp như dưới đây.



Sau đó người ta cắt theo đường nét đứt ở hình thứ ba, rồi mở tờ giấy ra thì nhận được hình nào trong các hình dưới đây?

- (A)  (B)  (C) 
- (D)  (E) 

Bài 2. Hình thứ 10 theo quy luật dưới đây được xếp từ bao nhiêu que diêm?



Bài 3. Hãy tìm giá trị của một hình tròn, một hình tam giác.

$$\bullet + \bullet + \blacktriangle = 18$$

$$\bullet + \bullet + \bullet + \blacktriangle + \blacktriangle = 31$$

$$\bullet = ? \quad \blacktriangle = ?$$

Bài 4. Có bao nhiêu số tự nhiên có 3 chữ số mà tổng các chữ số bằng 5?

Bài 5. Mẹ chia 12 cái kẹo cho 3 anh em sao cho ai cũng được ít nhất 1 cái kẹo và số kẹo mỗi người nhận được là khác nhau. Hỏi em út có thể được nhiều nhất bao nhiêu cái kẹo?
