



MathX

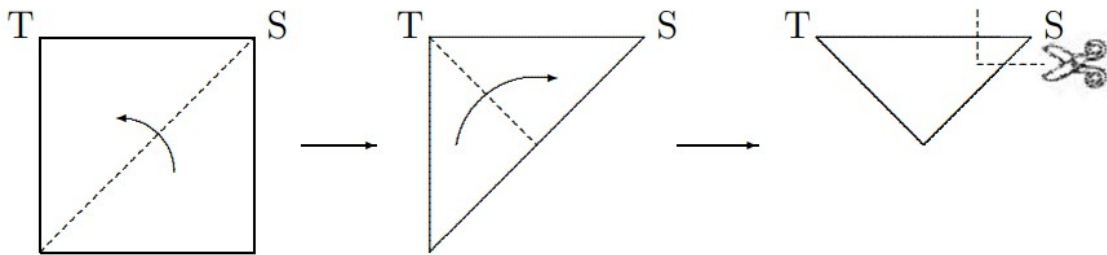
TOÁN TƯ DUY HÀNG TUẦN LỚP 4 – PHIẾU SỐ 17

THÁNG 10 – TUẦN 4 – ĐỀ BÀI

Chú ý: Học sinh làm bài, trình bày và so sánh với lời giải thầy gửi. Bài nào sai, các em nên làm lại để hiểu kỹ hơn nữa bài toán đó.

Kiên trì – bền bỉ nhất định sẽ hiệu quả!

Bài 1. Người ta gấp tờ giấy theo thứ tự và hướng gấp như dưới đây:

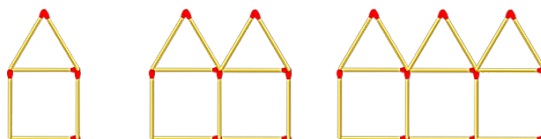


Sau đó người ta cắt theo đường nét đứt ở hình thứ ba, rồi mở tờ giấy ra thì nhận được hình nào trong các hình dưới đây?


- (A)
- (B)
- (C)
- (D)
- (E)



Bài 2. Hình thứ 10 theo quy luật dưới đây được xếp từ bao nhiêu que diêm?

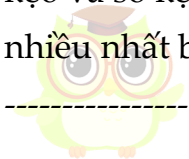


Bài 3. Hãy tìm giá trị của một hình tròn, một hình tam giác.



$\bullet + \bullet + \blacktriangle = 18$
 $\bullet + \bullet + \bullet + \blacktriangle + \blacktriangle = 31$
 $\bullet = ? \quad \blacktriangle = ?$

Bài 4. Có bao nhiêu số tự nhiên có 3 chữ số mà tổng các chữ số bằng 5?

Bài 5. Mẹ chia 12 cái kẹo cho 3 anh em sao cho ai cũng được ít nhất 1 cái kẹo và số kẹo mỗi người nhận được là khác nhau. Hỏi em út có thể được nhiều nhất bao nhiêu cái kẹo?
 **CLB TOÁN ONLINE MATHX**

