



MathX

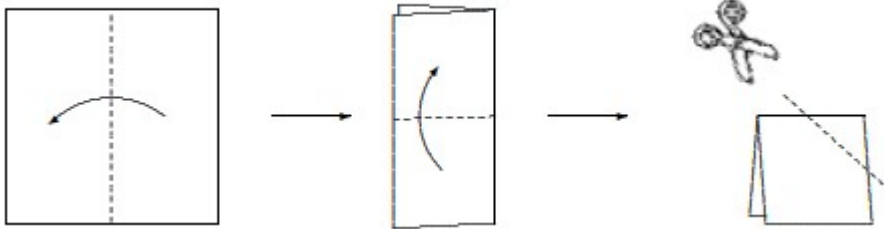
# TOÁN TƯ DUY HÀNG TUẦN LỚP 4 – PHIẾU SỐ 16

## THÁNG 10 – TUẦN 3 – ĐÁP ÁN

Chú ý: Học sinh làm bài, trình bày và so sánh với lời giải thầy gửi. Bài nào sai, các em nên làm lại để hiểu kỹ hơn nữa bài toán đó.

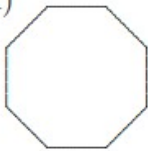
Kiên trì – bền bỉ nhất định sẽ hiệu quả!

**Bài 1.** Người ta gấp một tờ giấy theo thứ tự và chiều gấp như hình dưới đây, sau đó người ta cắt đi một góc của hình nhận được.

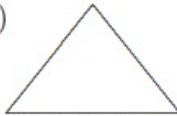


Hỏi hình nào dưới đây là mảnh giấy rơi ra sau khi cắt?

(A)




(B)



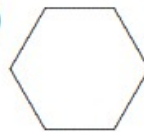
(C)



(D)



(E)



HX

Đáp án: D

**Bài 2.** Trong một tháng Ba nào đó có 3 ngày thứ Ba là ngày chẵn. Hỏi ngày 10 tháng Tư của năm đó là thứ mấy?

Hướng dẫn.

Vì tháng có 3 ngày thứ Ba là ngày chẵn nên các ngày thứ Ba đó phải rơi vào:

2; 9; 16; 23; 30

Do đó, 30/03 là thứ Ba. 31/03 là thứ Tư.

01/04: thứ Năm

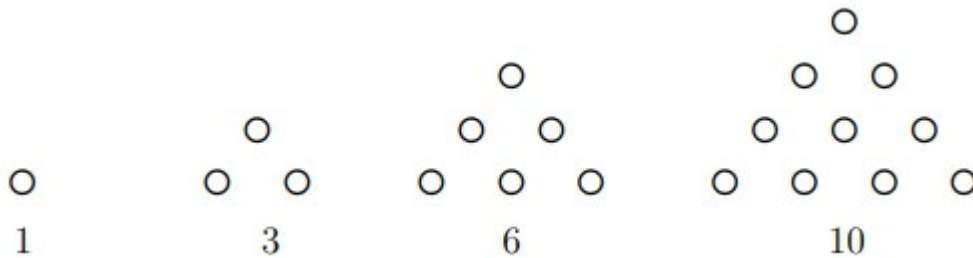
08/04: thứ Năm



CLB TOÁN ONLINE MATHX

→ 10/04: Thứ Bảy

**Bài 3.** Hình thứ 9 có bao nhiêu hình tròn nhỏ?



*Hướng dẫn.*

Hình thứ 9 có:  $1 + 2 + 3 + \dots + 9 = 45$  hình tròn.

**Bài 4.** Thầy Hiếu viết các số tự nhiên từ 10 đến 99 nhưng thầy bỏ qua không viết các số có chứa chữ số 3 (ví dụ số 34 và 93 thầy sẽ bỏ qua). Hỏi thầy Hiếu đã viết bao nhiêu số?

*Hướng dẫn.*

Từ 10 đến 99 có 90 số có hai chữ số.

Các số bỏ qua không viết là:

13; 23; 33; 43; 53; 63; 73; 83; 93 → 9 số

30; 31; 32; 33; 34; 35; 36; 37; 38; 39 → 10 số

Vì số 33 được tính 2 lần nên ta có số các số bỏ qua không viết là:

$$9 + 10 - 1 = 18 \text{ số}$$

Vậy thầy Hiếu (đẹp zai) đã viết:  $90 - 18 = 72$  số

**Bài 5.** Bạn An đi siêu thị mua 2 chai nước và 1 que kem hết tất cả 35 nghìn đồng. Thầy Hiếu mua 1 chai nước và 2 que kem hết 40 nghìn. Bạn Bình mua 1 chai nước và 1 que kem. Hỏi Bình cần trả bao nhiêu tiền? (Biết rằng các chai nước có giá tiền bằng nhau, các que kem có giá tiền cũng bằng nhau)

*Hướng dẫn.*

Tổng bạn An và thầy Hiếu mua 3 chai nước và 3 que kem hết:  $35 + 40 = 75$  nghìn.

Suy ra Bình mua 1 chai nước và 1 que kem hết:  $75 : 3 = 25$  nghìn.



Chú ý: Từ đây ta cũng tính được giá tiền của một chai nước, giá tiền của 1 que kem. (Các em học sinh thử tự tìm cách tính nhé☺)



**CLB TOÁN ONLINE MATHX**



**CLB TOÁN ONLINE MATHX**