



TOÁN TƯ DUY HÀNG TUẦN LỚP 3 – PHIẾU SỐ 16  
THÁNG 10 – TUẦN 03 – ĐÁP ÁN

Chú ý: Học sinh làm bài, trình bày và so sánh với lời giải thầy gửi. Bài nào sai, các em nên làm lại để hiểu kỹ hơn nữa bài toán đó.

Kiên trì – bền bỉ nhất định sẽ hiệu quả!

**Bài 1.** Hãy tìm hình ở ô thứ ba từ trái sang phải của hàng thứ hai từ trên xuống dưới?

$\infty$		$\bowtie$	$\square$
	$\oplus$	$\heartsuit$	$\diamond$
$\heartsuit$	$\triangle$	*	
	$\odot$	$\oplus$	$\bowtie$

(A)  $\oplus$

(B)  $\heartsuit$

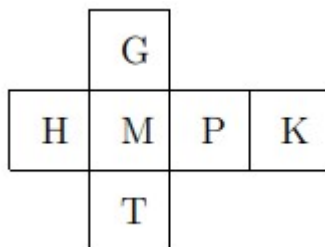
(C)  $\bowtie$

(D)  $\diamond$

(E) \*

Đáp số: B

**Bài 2.** Khi gấp mảnh giấy dưới đây tạo thành khối hình lập phương thì mặt nào đối diện với mặt có chữ M?

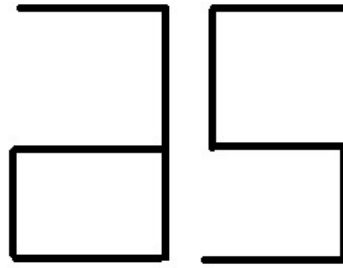


Đáp số: Mặt chữ K

**Bài 3.** Một bạn nhìn vào gương thấy số được viết trên tường phía sau mình ở trong gương như sau:

-----



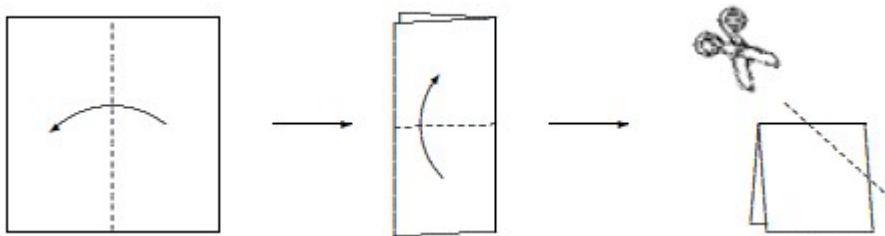


Hỏi số được viết trên tường là số nào?

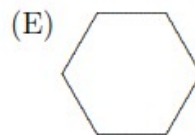
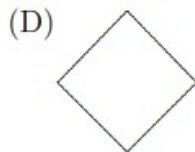
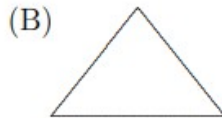
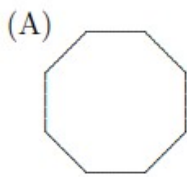
*Hướng dẫn.*

Số được viết trên tường là: 26

**Bài 4.** Người ta gấp một tờ giấy theo thứ tự và chiều gấp như hình dưới đây, sau đó người ta cắt đi một góc của hình nhận được.



Hỏi hình nào dưới đây là mảnh giấy rơi ra sau khi cắt?



*Hướng dẫn.*

Cần chú ý rằng gấp trước, mở sau. Khi mở tờ giấy ta mở ngược lại theo thứ tự đã gấp.

Đáp số: D

**Bài 5.** Trong một tháng Ba nào đó có 3 ngày thứ Ba là ngày chẵn. Hỏi ngày 10 tháng Ba đó là thứ mấy?

*Hướng dẫn giải.*



Để có 3 ngày thứ Ba là các ngày chẵn thì xen kẽ ba ngày thứ Ba đó phải là hai ngày thứ Ba là ngày lẻ (vì các thứ Ba cách nhau 7 ngày).

Vậy các ngày thứ Ba phải là: 2; 9; 16; 23; 30

Ngày 10 tháng 3 rơi vào ngày thứ Tư.



**CLB TOÁN ONLINE MATHX**



**CLB TOÁN ONLINE MATHX**