



MathX

TOÁN TƯ DUY HÀNG TUẦN LỚP 2 – PHIẾU SỐ 16

THÁNG 10 – TUẦN 3 – ĐÁP ÁN

Chú ý: Học sinh làm bài, trình bày và so sánh với lời giải thầy gửi. Bài nào sai, các em nên làm lại để hiểu kỹ hơn nữa bài toán đó.

Kiên trì – bền bỉ nhất định sẽ hiệu quả!

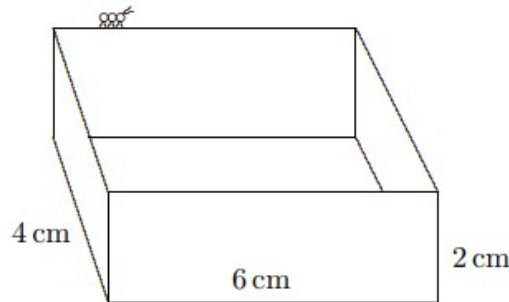
Bài 1. Số nào nhỏ nhất trong các số sau: 312; 213; 321; 231; 132;

Đáp số: 132

Bài 2. Chú kiến bò một vòng quanh các cạnh bên trên của chiếc hộp như hình dưới đây. Hỏi quãng đường chú kiến đã bò là bao nhiêu xăng-ti-mét?



CL



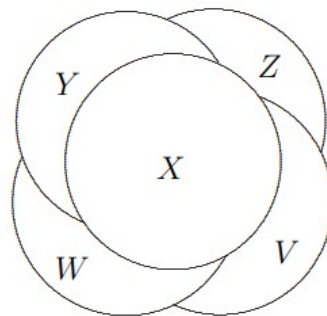
MATHX

Hướng dẫn.

Quãng đường chú kiến đã bò là: $4 + 6 + 4 + 6 = 20\text{cm}$.

Đáp số: 20cm

Bài 3. Các đồng xu được sắp xếp như hình dưới đây. Hỏi đồng xu nào ở dưới cùng?



Hướng dẫn.











Thứ tự từ dưới lên trên của các đồng xu là: $Z \rightarrow V \rightarrow W \rightarrow Y \rightarrow X$





Đồng xu dưới cùng là: Z



CLB TOÁN ONLINE MATHX

Bài 4. Hãy tìm hình thứ ba từ trái sang phải của hàng thứ hai từ trên xuống dưới?

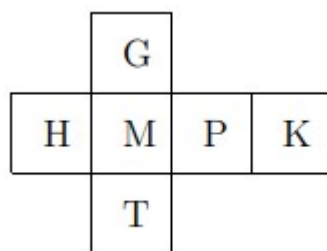
∞			
			
		*	
			

- (A)  (B)  (C)  (D)  (E) *

Hướng dẫn.

Hình thứ ba từ trái sang phải của hàng thứ hai từ trên xuống là hình trái tim. Đáp án: B

Bài 5. Khi gấp mảnh giấy dưới đây tạo thành khối hình lập phương thì mặt nào đối diện với mặt có chữ M?



Hướng dẫn.

Khi gấp lại ta có mặt K đối diện với mặt M.

Đáp số: mặt chữ K.