



TOÁN TƯ DUY HÀNG TUẦN LỚP 3 – PHIẾU SỐ 16 THÁNG 10 – TUẦN 03

Chú ý: Học sinh làm bài, trình bày và so sánh với lời giải thầy gửi. Bài nào sai, các em nên làm lại để hiểu kỹ hơn nữa bài toán đó.

Kiên trì – bền bỉ nhất định sẽ hiệu quả!

Bài 1. Hãy tìm hình thứ ba từ trái sang phải của hàng thứ hai từ trên xuống dưới?

∞		\bowtie	\square
	\oplus	\heartsuit	\diamond
\heartsuit	\triangle	*	
	\odot	\oplus	\bowtie

(A) \oplus

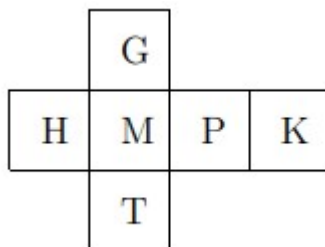
(B) \heartsuit

(C) \bowtie

(D) \diamond

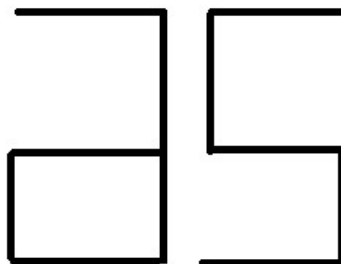
(E) *

Bài 2. Khi gấp mảnh giấy dưới đây tạo thành khối hình lập phương thì mặt nào đối diện với mặt có chữ M?

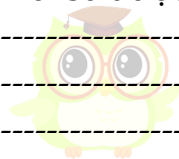




Bài 3. Một bạn nhìn vào gương thấy số được viết trên tường phía sau mình ở trong gương như sau:

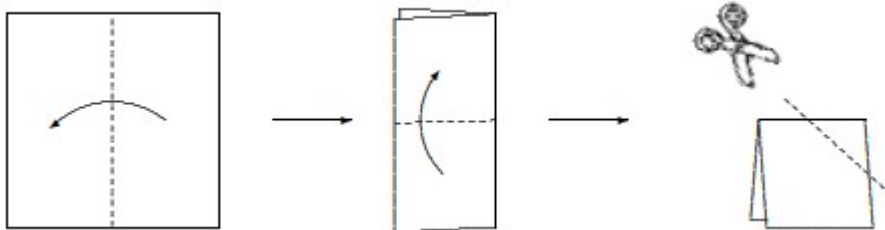


Hỏi số được viết trên tường là số nào?



CLB TOÁN ONLINE MATHX

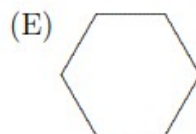
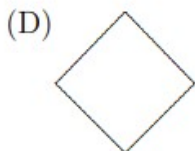
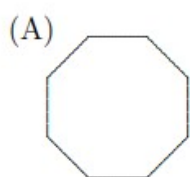
Bài 4. Người ta gấp một tờ giấy theo thứ tự và chiều gấp như hình dưới đây, sau đó người ta cắt đi một góc của hình nhận được.



Hỏi hình nào dưới đây là mảnh giấy rơi ra sau khi cắt?



CLB TOÁN ONLINE MATHX



Bài 5. Trong một tháng Hai nào đó có 3 ngày thứ Ba là ngày chẵn. Hỏi ngày 10 tháng Hai đó là thứ mấy?

