



MathX

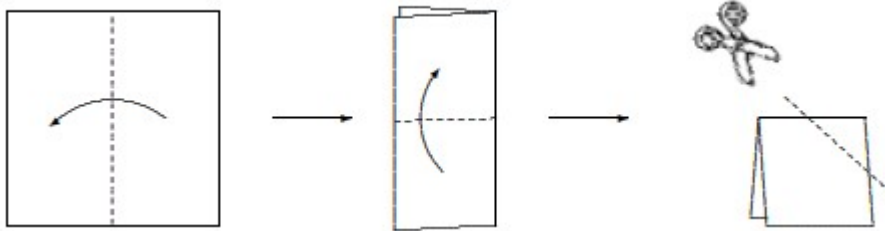
TOÁN TƯ DUY HÀNG TUẦN LỚP 4 – PHIẾU SỐ 16

THÁNG 10 – TUẦN 3 – ĐỀ BÀI

Chú ý: Học sinh làm bài, trình bày và so sánh với lời giải thầy gửi. Bài nào sai, các em nên làm lại để hiểu kỹ hơn nữa bài toán đó.

Kiên trì – bền bỉ nhất định sẽ hiệu quả!

Bài 1. Người ta gấp một tờ giấy theo thứ tự và chiều gấp như hình dưới đây, sau đó người ta cắt đi một góc của hình nhận được.



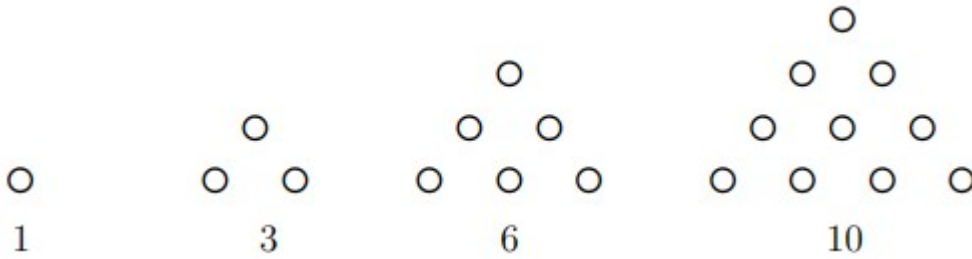
Hỏi hình nào dưới đây là mảnh giấy rơi ra sau khi cắt?


Bài 2. Trong một tháng Ba nào đó có 3 ngày thứ Ba là ngày chẵn. Hỏi ngày 10 tháng Tư của năm đó là thứ mấy?



CLB TOÁN ONLINE MATHX

Bài 3. Hình thứ 9 có bao nhiêu hình tròn nhỏ?





Bài 4. Thầy Hiếu viết các số tự nhiên từ 10 đến 99 nhưng thầy bỏ qua không viết các số có chứa chữ số 3 (ví dụ số 14 và 95 thầy sẽ bỏ qua). Hỏi thầy Hiếu đã viết bao nhiêu số?



