



**Bài 3.** Tìm trung bình cộng của các số sau: 1; 4; 7; 10; 13; ...; 196; 199

---

---

---

---

---

---

---

---

---

---

**Bài 4.** Chi vừa mua được cuốn sách Toán mới của thầy Hiếu. Bạn ấy mở sách ra và nhìn thấy tổng 2 số được dùng để đánh số 2 trang trước mặt mình là 317. Hỏi trang tiếp theo là trang nào?

---

---

---

---

---

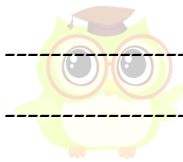
---

---

---

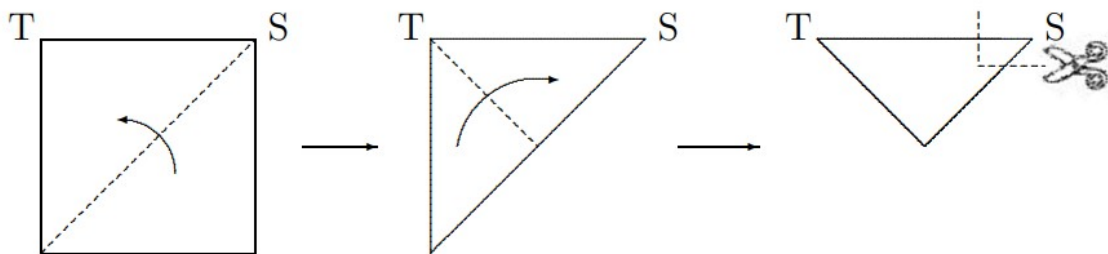
---

---



**CLB TOÁN ONLINE MATHX**

**Bài 5.** Người ta gấp tờ giấy theo thứ tự và hướng gấp như dưới đây:

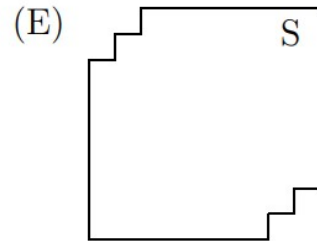
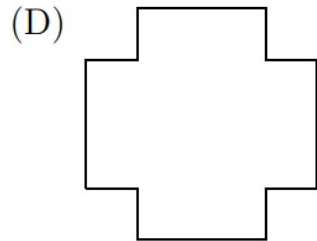
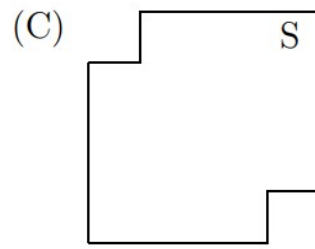
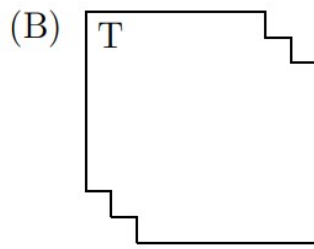
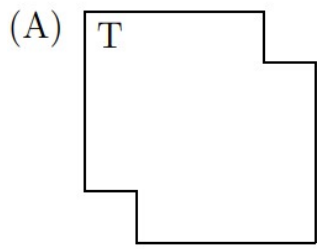


Sau đó người ta cắt theo đường nét đứt ở hình thứ ba, rồi mở tờ giấy ra thì nhận được hình nào trong các hình dưới đây?


---



**CLB TOÁN ONLINE MATHX**



-----  
-----  
-----  
-----  
-----  
-----  
-----



**CLB TOÁN ONLINE MATHX**

-----

