



MathX

TOÁN TƯ DUY HÀNG TUẦN LỚP 2 – PHIẾU SỐ 16

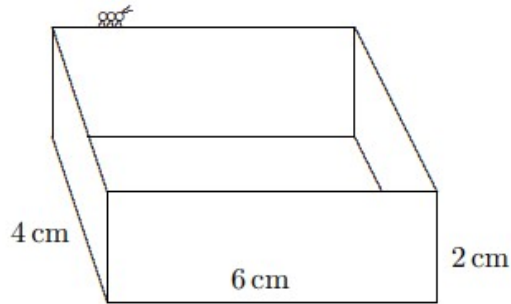
THÁNG 10 – TUẦN 3 – ĐỀ BÀI

Chú ý: Học sinh làm bài, trình bày và so sánh với lời giải thầy gửi. Bài nào sai, các em nên làm lại để hiểu kỹ hơn nữa bài toán đó.

Kiên trì – bền bỉ nhất định sẽ hiệu quả!

Bài 1. Số nào nhỏ nhất trong các số sau: 312; 213; 321; 231; 132;

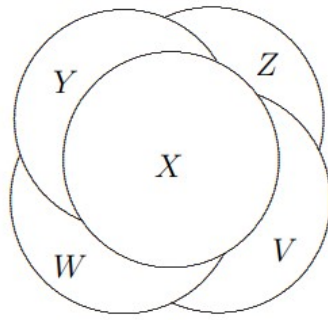
Bài 2. Chú kiến bò một vòng quanh các cạnh bên trên của chiếc hộp như hình dưới đây. Hỏi quãng đường chú kiến đã bò là bao nhiêu xăng-ti-mét?



Bài 3. Các đồng xu được sắp xếp như hình dưới đây. Hỏi đồng xu nào ở dưới cùng?



CLB TOÁN ONLINE MATHX



Bài 4. Hãy tìm hình thứ ba từ trái sang phải của hàng thứ hai từ trên xuống dưới?

∞		\bowtie	\square
	\oplus	\heartsuit	\diamond
\heartsuit	\triangle	$*$	
	\odot	\oplus	\bowtie

(A) \oplus

(B) \heartsuit

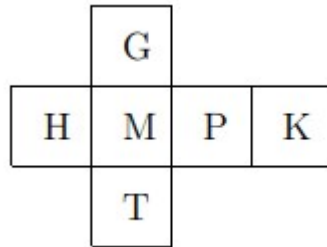
(C) \bowtie

(D) \diamond

(E) $*$



Bài 5. Khi gấp mảnh giấy dưới đây tạo thành khối hình lập phương thì mặt nào đối diện với mặt có chữ M?



 **CLB TOÁN ONLINE MATHX**

