



MathX

TOÁN TƯ DUY HÀNG TUẦN LỚP 2 – PHIẾU SỐ 15

THÁNG 10 – TUẦN 2 – ĐÁP ÁN

Chú ý: Học sinh làm bài, trình bày và so sánh với lời giải thầy gửi. Bài nào sai, các em nên làm lại để hiểu kỹ hơn nữa bài toán đó.

Kiên trì – bền bỉ nhất định sẽ hiệu quả!


Bài 1. Trong hộp có 3 viên bi đỏ, 2 viên bi xanh. Không được nhìn vào hộp, cần bốc ra ít nhất bao nhiêu viên để chắc chắn bốc được ít nhất 1 viên bi màu xanh?

Hướng dẫn.

Tình huống xấu nhất là ta bốc mãi mà chỉ được viên bi màu đỏ, ta có thể bốc nhiều nhất 3 viên bi màu đỏ. Khi bốc đến viên bi thứ tư, chắc chắn ta có ít nhất một viên bi màu xanh.

Vậy cần bốc ít nhất 4 viên bi để chắc chắn có được 1 viên bi màu xanh.

Bài 2. Một ngày nọ, một con hươu, một con chó và một con thỏ quyết định chạy đua. Thỏ không phải là con vật về đích đầu tiên. Chó không phải về đích đầu tiên nhưng cũng không phải con vật về đích cuối cùng. Vậy con vật nào là con vật chạy chậm nhất cuộc đua?



Em hãy điền vào bảng sau để tìm ra cách giải nhé.

	Nhanh nhất	Nhanh nhì	Chậm nhất
Hươu	OK	X	X
Chó	X	OK	X
Thỏ	X	X	OK



CLB TOÁN ONLINE MATHX

Lớp học toán online có giáo viên dạy nhóm nhỏ – CLB MATHX - 0866.162.019

Vì chó không về đích đầu tiên, cũng không về đích cuối cùng nên chó về đích thứ hai. Thỏ không về đích đầu tiên, chó đã về đích thứ hai nên thỏ về đích thứ ba. Còn lại, hươu về đích nhanh nhất.

Đáp số: thỏ về đích chậm nhất.

Bài 3. Nam, Hùng, Thao và Tú cùng xếp hàng để mua món đồ ăn ưa thích của mình. Hùng xếp thứ 2 trong hàng. Đứng ngay trước Nam là Thao. Hỏi số thứ tự trong hàng của từng bạn là như thế nào?

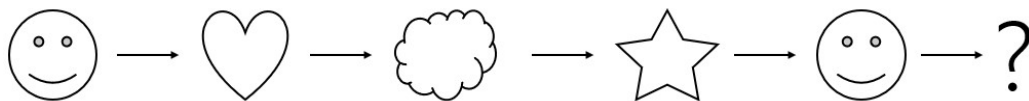


Hướng dẫn.

Vì Hùng xếp thứ hai trong hàng và đứng ngay trước Nam là Thao nên Thao phải ở vị trí thứ ba, Nam ở vị trí thứ tư. Còn lại Tú ở vị trí đầu tiên.

Vậy thứ tự xếp hàng (tính từ đầu hàng) của các bạn là: Tú – Hùng – Thao – Nam.

Bài 4. Cho dãy hình bên dưới. Em hãy quan sát cẩn thận, tìm hình phù hợp còn thiếu đặt vào dấu chấm hỏi (?).

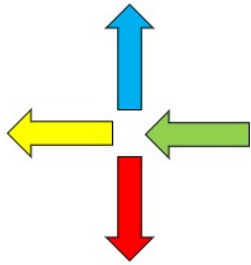


- (A)  (B)  (C)  (D)  (E) 

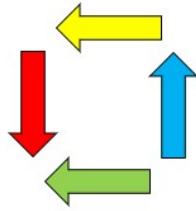
Đáp án: B

Bài 5. Sarah xếp các hình theo thứ tự như hình bên dưới.

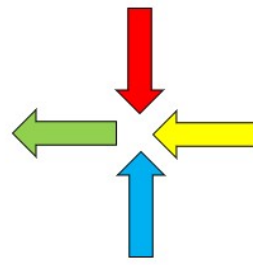




Hình 1



Hình 2

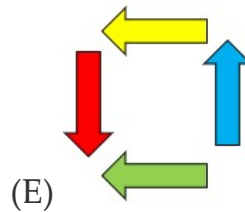
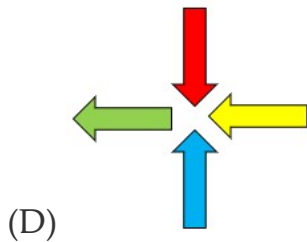
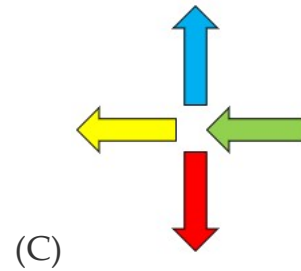
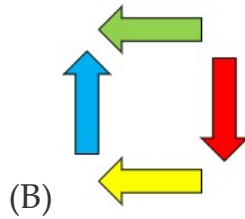
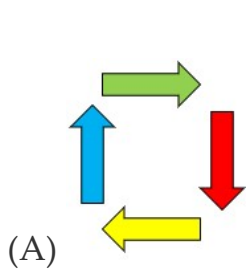


Hình 3



Hình 4

Hỏi hình thứ 4 Sarah xếp là hình nào?



Đáp án: A

Chú ý sự di chuyển của các mũi tên theo quy luật cùng chiều kim đồng hồ.

CÂU LẠC BỘ TOÁN MATHX
caulacbotan.mathx.vn – 0866.162.019



Lớp học toán online có giáo viên dạy nhóm nhỏ – CLB MATHX - 0866.162.019