



TOÁN TƯ DUY HÀNG TUẦN LỚP 3 – PHIẾU SỐ 14 THÁNG 10 – TUẦN 01

Chú ý: Học sinh làm bài, trình bày và so sánh với lời giải thầy gửi. Bài nào sai, các em nên làm lại để hiểu kỹ hơn nữa bài toán đó.

Kiên trì – bền bỉ nhất định sẽ hiệu quả!


Bài 1. Bạn Phương cắt hai hình tam giác đều bằng giấy rồi ghép hai mảnh giấy hình tam giác với nhau.




Trong các hình sau hình nào không thể nhận được từ việc ghép hai tam giác đó?



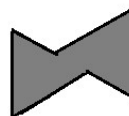
A



B



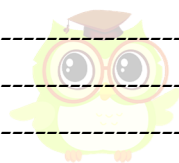
C



D

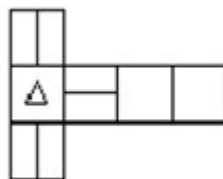


E



CLB TOÁN ONLINE MATHX

Bài 2. Cho mảnh giấy có hình dưới đây.



Mảnh giấy đó được gấp lại để tạo thành một hình lập phương nào trong các hình dưới đây?



A



B



C



D



CLB TOÁN ONLINE MATHX

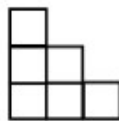
Bài 3. Cho dãy các hình có qui luật như dưới đây, mỗi hình được tạo thành từ các hình vuông nhỏ. Hình 1 gồm 1 hình vuông nhỏ, hình 2 gồm 3 hình vuông nhỏ, hình 3 gồm 6 hình vuông nhỏ, hình 4 gồm 10 hình vuông nhỏ....



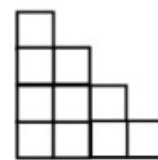
Hình 1



Hình 2



Hình 3



Hình 4

Cần bao nhiêu hình vuông nhỏ để tạo thành hình thứ 10 theo qui luật như trên?



CLB TOÁN ONLINE MATHX

Bài 4. An, Bình, Chi sưu tầm được 30 con tem. Nếu An cho Bình 5 con tem. Bình cho Chi 3 con tem. Chi lại cho An 6 con tem thì lúc đó số tem của ba bạn bằng nhau. Hỏi lúc đầu mỗi bạn có bao nhiêu con tem?

Bài 5. Cho ba tấm thẻ dưới đây. Hiệu giữa số lớn nhất có ba chữ số và số bé nhất có ba chữ số có thể tạo thành bằng cách sắp xếp ba tấm thẻ đó là:





CLB TOÁN ONLINE MATHX



CLB TOÁN ONLINE MATHX

Thầy Hiếu giới thiệu khóa học toán online theo lớp với sĩ số 10 – 15 học sinh, học tương tác qua phần mềm ClassIn của CLB Toán Online MATHX – phụ trách chuyên môn bởi thầy Hiếu, giảng dạy bởi đội ngũ giáo viên giỏi và tâm huyết của CLB MATHX.

Quý phụ huynh có nhu cầu vui lòng xem chi tiết tại đây:
<http://caulacbotoan.mathx.vn/>. Hotline: 0866.162.019 (inbox Zalo)



CLB TOÁN ONLINE MATHX