



MathX


TOÁN TƯ DUY HÀNG TUẦN LỚP 4 – PHIẾU SỐ 12

THÁNG 9 – TUẦN 3 – ĐỀ BÀI

Chú ý: Học sinh làm bài, trình bày và so sánh với lời giải thầy gửi. Bài nào sai, các em nên làm lại để hiểu kỹ hơn nữa bài toán đó.

Kiên trì – bền bỉ nhất định sẽ hiệu quả!

Bài 1. An và Bình có tất cả 80 viên bi, số bi của An hơn số bi của Bình là 16 viên. Tìm số viên bi của mỗi bạn.



CLB TOÁN ONLINE MATHX

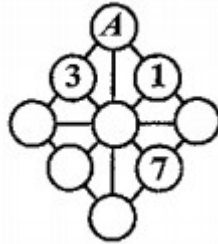
Bài 2. Nếu Cường cho Dũng 15 viên bi thì lúc này số viên bi của 2 bạn bằng nhau. Tìm số viên bi của mỗi bạn biết cả hai bạn có tất cả 150 viên bi.


Bài 3. Ngày hôm qua là Thứ Hai. Hỏi 120 ngày sau ngày hôm nay là thứ mấy?



CLB TOÁN ONLINE MATHX


Bài 4. Các số tự nhiên từ 1 đến 9 được điền vào các hình tròn dưới đây sao cho tổng 3 số ở mỗi đường thẳng (nối ba đường tròn thẳng hàng nhau) đều bằng nhau. Tìm số được điền vào hình tròn A.





CLB TOÁN ONLINE MATHX

Bài 5. Có bao nhiêu hình vuông trong hình dưới đây?





CLB TOÁN ONLINE MATHX

Thầy Hiếu giới thiệu khóa học toán online theo lớp với sĩ số 10 – 15 học sinh, học tương tác qua phần mềm ClassIn của CLB Toán Online MATHX – phụ trách chuyên môn bởi thầy Hiếu, giảng dạy bởi đội ngũ giáo viên giỏi và tâm huyết của CLB MATHX.

Quý phụ huynh có nhu cầu vui lòng xem chi tiết tại đây: <http://caulacbotuan.mathx.vn/>. Hotline: 0866.162.019 (inbox Zalo)



CLB TOÁN ONLINE MATHX



CLB TOÁN ONLINE MATHX