



MathX


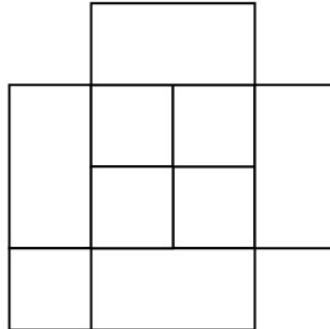
TOÁN TƯ DUY HÀNG TUẦN LỚP 4 – PHIẾU SỐ 10

THÁNG 9 – TUẦN 1 – ĐỀ BÀI

Chú ý: Học sinh làm bài, trình bày và so sánh với lời giải thầy gửi. Bài nào sai, các em nên làm lại để hiểu kỹ hơn nữa bài toán đó.

Kiên trì – bền bỉ nhất định sẽ hiệu quả!

Bài 1. Có tất cả bao nhiêu hình vuông ở hình bên dưới?



Bài 2. 3 năm trước tổng số tuổi của mẹ và hai con là 40. Anh Bon hơn Bin là 4 tuổi. Biết năm nay bé Bin 5 tuổi. Hỏi năm nay mẹ bao nhiêu tuổi ?

Bài 3. Em hãy điền số thích hợp vào dấu chấm hỏi trong hình. Biết mỗi hình đều tuân theo một quy luật giống nhau

| | |
|----|----|
| 4 | 2 |
| 26 | 18 |

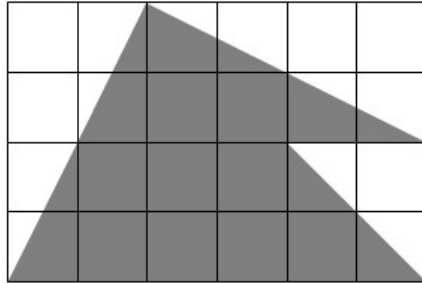
| | |
|----|----|
| 2 | 8 |
| 58 | 42 |

| | |
|----|----|
| 5 | 3 |
| 32 | 17 |

| | |
|----|---|
| 7 | 6 |
| 43 | ? |



Bài 4. Mỗi ô vuông nhỏ có diện tích là 1 cm^2 . Tích diện tích phần hình được tô đen?



Bài 5. Có 20 người đang xếp thành một hàng. Châu là người thứ 5 nếu đếm từ đầu hàng. Minh là người thứ 10 nếu đếm từ cuối hàng. Hỏi có bao nhiêu người đang xếp hàng giữa Châu và Minh ?
