



Math

TOÁN TƯ DUY HÀNG TUẦN LỚP 4 – PHIẾU SỐ 09

THÁNG 8 – TUẦN 4 – ĐỀ BÀI

Chú ý: Học sinh làm bài, trình bày và so sánh với lời giải thầy gửi. Bài nào sai, các em nên làm lại để hiểu kỹ hơn nữa bài toán đó.

Kiên trì – bền bỉ nhất định sẽ hiệu quả!


Bài 1. Tìm số tự nhiên lớn nhất các chữ số khác nhau và có tổng các chữ số bằng 11.



CLB TOÁN ONLINE MATHX

Bài 2. Một tháng Hai của năm nào đó có 3 ngày thứ Hai rơi vào ngày lẻ. Hỏi ngày 1 tháng Tư của năm đó là thứ mấy?

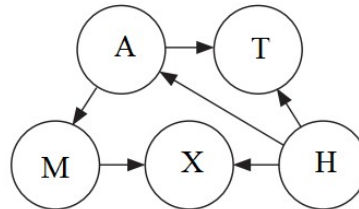
Bài 3. Có bao nhiêu hình vuông trong hình dưới đây:






CLB TOÁN ONLINE MATHX

Bài 4. Các số tự nhiên 1, 2, 3, 4, 5 được điền vào các vòng tròn dưới đây sao cho mỗi số được điền 1 lần và mỗi vòng tròn được điền 1 số. Chiều mũi tên chỉ từ số bé đến số lớn. Tìm số được điền ở vòng tròn A.





CLB TOÁN ONLINE MATHX

Bài 5. Có bao nhiêu cách để chọn ra 3 chữ theo thứ tự từ trái qua phải tạo thành 3 chữ M – O – M ?

MATHX SCHOOL OF MATHEMATICS



CLB TOÁN ONLINE MATHX