



MathX

TOÁN TƯ DUY HÀNG TUẦN LỚP 2 – PHIẾU SỐ 13

THÁNG 9 – TUẦN 4 – ĐỀ BÀI

Chú ý: Học sinh làm bài, trình bày và so sánh với lời giải thầy gửi. Bài nào sai, các em nên làm lại để hiểu kỹ hơn nữa bài toán đó.

Kiên trì – bền bỉ nhất định sẽ hiệu quả!

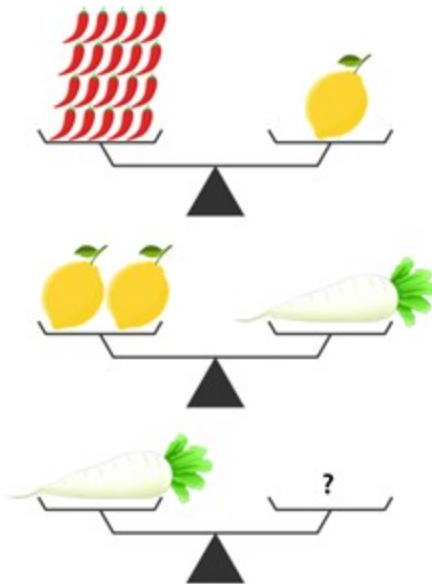
Bài 1. Khoanh tròn vào con vật nặng nhất.





CLB TOÁN ONLINE MATHX

Bài 2. Hỏi củ cải trắng bằng bao nhiêu quả ớt?






CLB TOÁN ONLINE MATHX

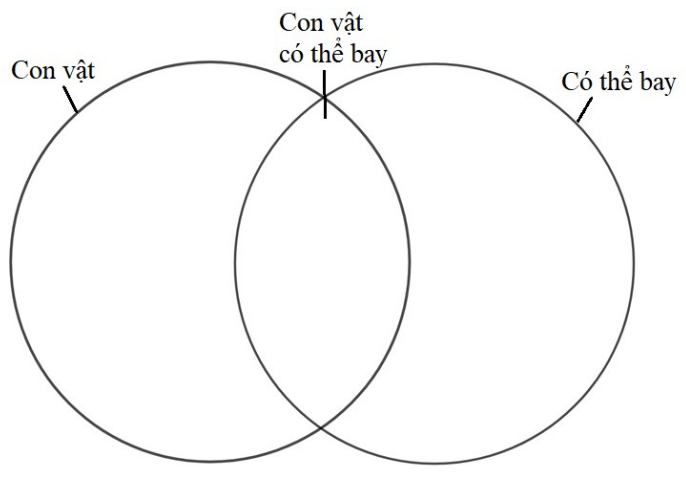
Bài 3. Tính bằng cách hợp lý:


$$21 + 22 + 23 + 24 + 25$$



CLB TOÁN ONLINE MATHX

Bài 4. Em hãy chia nhóm các con vật vào biểu đồ dưới đây:





Bài 5. Nam cùng các bạn xếp hàng ngang tập thể dục. Biết Nam đứng thứ năm từ trái sang và bạn ấy cũng đứng thứ năm từ phải sang. Hỏi có bao nhiêu bạn cùng xếp hàng?