



MathX


TOÁN TƯ DUY HÀNG TUẦN LỚP 2 – PHIẾU SỐ 12

THÁNG 9 – TUẦN 3 – ĐỀ BÀI

Chú ý: Học sinh làm bài, trình bày và so sánh với lời giải thầy gửi. Bài nào sai, các em nên làm lại để hiểu kỹ hơn nữa bài toán đó.

Kiên trì – bền bỉ nhất định sẽ hiệu quả!

Bài 1. Giá sách của An có 2 ngăn. Ngăn trên có nhiều hơn ngăn dưới 10 cuốn sách. Hỏi An cần chuyển từ ngăn trên xuống ngăn dưới mấy cuốn sách để hai ngăn có số sách bằng nhau?



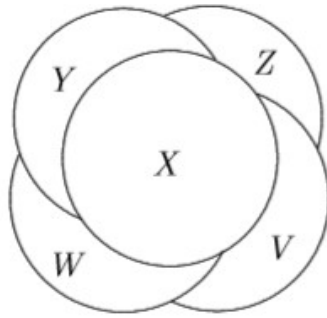
CLB TOÁN ONLINE MATHX

Bài 2. Tính nhanh: $29 + 38 + 22 + 31$

Bài 3. Có 5 đồng xu đặt chồng lên nhau như hình vẽ sau:



CLB TOÁN ONLINE MATHX

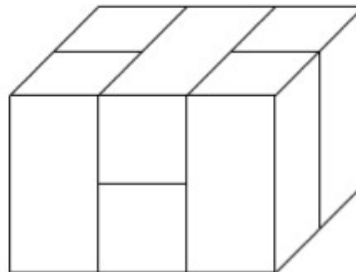


Hãy tìm thứ tự các đồng xu này từ dưới lên trên?

Bài 4. Có bao nhiêu viên gạch xếp được hình khối dưới đây?



CLB TOÁN ONLINE MATHX



Bài 5. Có 5 người bạn chơi cờ vua với nhau. Mỗi bạn đều đấu với các bạn còn lại một ván cờ. Hỏi có tất cả bao nhiêu ván cờ vua giữa 5 bạn đó?



CLB TOÁN ONLINE MATHX





CLB TOÁN ONLINE MATHX



CLB TOÁN ONLINE MATHX