



MathX

# TOÁN TƯ DUY HÀNG TUẦN LỚP 2 – PHIẾU SỐ 11

## THÁNG 9 – TUẦN 2 – ĐỀ BÀI

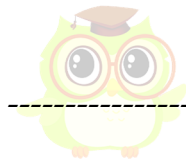

Chú ý: Học sinh làm bài, trình bày và so sánh với lời giải thầy gửi. Bài nào sai, các em nên làm lại để hiểu kỹ hơn nữa bài toán đó.

Kiên trì – bền bỉ nhất định sẽ hiệu quả!

**Bài 1.** Bạn Bình ghép 2 trong 6 miếng bìa ghi các chữ số 3, 4, 5, 7, 0 và dấu (?) để có so sánh sau:

$$34 < ?5 < 70$$

Hỏi những miếng bìa nào có thể thay cho dấu (?) để được so sánh đúng?




CLB TOÁN ONLINE MATHX

**Bài 2.** Hãy viết vào 9 ô vuông dưới đây 3 chữ số 1, 3 chữ số 2 và 3 chữ số 3 sao cho tổng 3 số trong mỗi hàng, mỗi cột đều bằng 6.




CLB TOÁN ONLINE MATHX

Bài 3. Các ký hiệu: quả dưa, quả táo và quả dưa đại diện cho các chữ số.  
 Hãy tìm xem quả táo là số nào?


CLB 1
2
8
7
=
IE MATHX

Bài 4. Cho phép toán  $68 - 14 = 84$ . Đổi 1 que diêm để được phép toán đúng.

68 - 14 = 84

---

---

---

---


---

---

---

---

**Bài 5.** Trong hộp có 4 viên bi đỏ, 6 viên bi vàng và 10 viên bi xanh. Các viên bi có kích thước, hình dạng giống hệt nhau. Không nhìn vào hộp, em cần lấy ra ít nhất bao nhiêu viên để chắc chắn có được 5 viên bi cùng màu?



**CLB TOÁN ONLINE MATHX**

---

---

---

---

---

---

---

---