





## TOÁN TƯ DUY HÀNG TUẦN LỚP 3 – PHIẾU SỐ 12 (TUẦN 3 THÁNG 9)


Chú ý: Học sinh làm bài, trình bày và so sánh với lời giải thầy gửi. Bài nào sai, các em nên làm lại để hiểu kỹ hơn nữa bài toán đó.

*Kiên trì – bền bỉ nhất định sẽ hiệu quả!*

**Bài 1.** Có 3 lọ hoa: hoa hồng, hoa lan, hoa huệ được xếp thành một hàng bên cửa sổ. Hỏi có bao nhiêu cách sắp xếp?



**Bài 2.** Năm nay Nam 8 tuổi, bố Nam 35 tuổi, mẹ Nam 33 tuổi. Hỏi sau mấy năm nữa thì tổng số tuổi của Nam, bố Nam và mẹ Nam bằng 91 tuổi?







## CLB TOÁN ONLINE MATHX

Thầy Hiếu giới thiệu khóa học toán online theo lớp với sĩ số 10 – 15 học sinh, học tương tác qua phần mềm ClassIn của CLB Toán Online MATHX – phụ trách chuyên môn bởi thầy Hiếu, giảng dạy bởi đội ngũ giáo viên giỏi và tâm huyết của CLB MATHX.

Quý phụ huynh có nhu cầu vui lòng xem chi tiết tại đây: <http://caulacbotan.mathx.vn/>. Hotline: 0866.162.019 (inbox Zalo)



CLB TOÁN ONLINE MATHX