


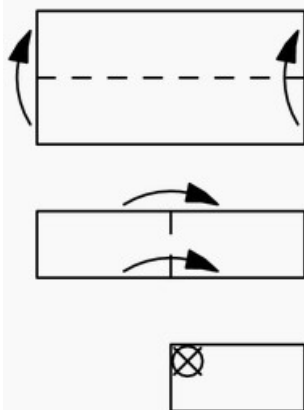


TOÁN TƯ DUY HÀNG TUẦN LỚP 3 – PHIẾU SỐ 10 (TUẦN 1 THÁNG 9)

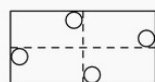
Chú ý: Học sinh làm bài, trình bày và so sánh với lời giải thầy/giỏi. Bài nào sai, các em nên làm lại để hiểu kỹ hơn nữa bài toán đó.

Kiên trì – bền bỉ nhất định sẽ hiệu quả!

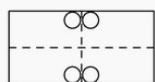
Bài 1. Như ở hình vẽ dưới đây, một mảnh giấy hình chữ nhật được gấp làm đôi từ dưới lên, sau đó với hình chữ nhật mới lại gấp làm đôi từ trái sang phải. Sau đó người ta khoét một hình tròn nhỏ ở góc có đánh dấu X. Hỏi khi mở mảnh giấy đó ra thì nhận được hình nào dưới đây?



(A)



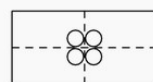
(B)



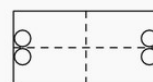
(C)



(D)



(E)

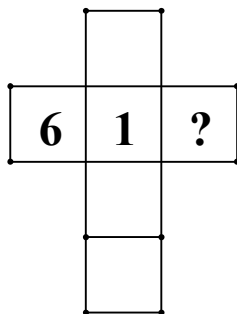


Bài 2. Trong hình vuông, mỗi ô được điền 1 trong các số 1, 2, 3, 4 sao cho mỗi hàng, mỗi cột đều có đủ các số 1, 2, 3, 4. Hình vuông được chia thành 4 hình vuông 2×2 sao cho mỗi hình vuông 2×2 cũng có mặt đủ 4 số 1, 2, 3, 4. Hãy tìm giá trị của P?

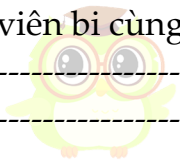
1		3	
	2		
	P		
			4



Bài 3. Các số 2, 3, 4 và 5 được điền vào các ô trống của hình bên dưới sao cho tổng các số trên hàng ngang và hàng dọc thì bằng nhau. Hỏi ô chứa dấu hỏi (?) có giá trị bằng bao nhiêu?



Bài 4. Trong túi có 5 viên bi đỏ, 3 viên bi xanh và 2 viên bi vàng. Không nhìn vào túi, phải lấy ra ít nhất bao nhiêu viên bi để chắc chắn có ít nhất 3 viên bi cùng màu.



CLB TOÁN ONLINE MATHX

Bài 5. Hình dưới đây được tạo thành từ các viên gạch giống nhau. Hỏi cần dùng bao nhiêu viên gạch để tạo thành hình đó?

