



Math

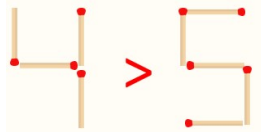
TOÁN TƯ DUY HÀNG TUẦN LỚP 3

THÁNG 8 – TUẦN 1 – ĐÁP ÁN

Chú ý: Học sinh làm bài, trình bày và so sánh với lời giải thầy gửi. Bài nào sai, các em nên làm lại để hiểu kỹ hơn nữa bài toán đó.

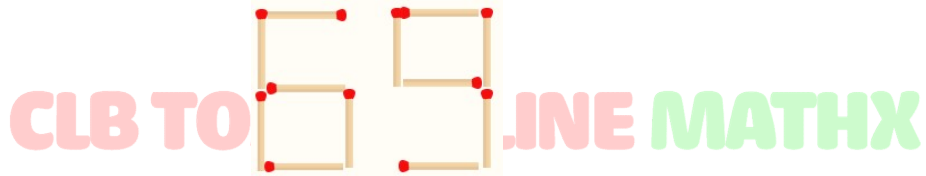
Kiên trì – bền bỉ nhất định sẽ hiệu quả!

Bài 1. Bạn An xếp que diêm thành 2 số và đã đặt dấu so sánh sai. Em hãy đổi chỗ chỉ 1 que diêm ở 1 số để có so sánh đúng (vẫn giữ nguyên dấu >)



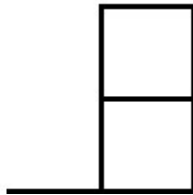
Đáp án: Đổi 1 que diêm ở số 5 để được $4 > 3$.

Bài 2. Đổi chỗ chỉ 1 que diêm ở một chữ số trong số 69, ta có thể có nhiều nhất mấy cách để được số mới có 2 chữ số?

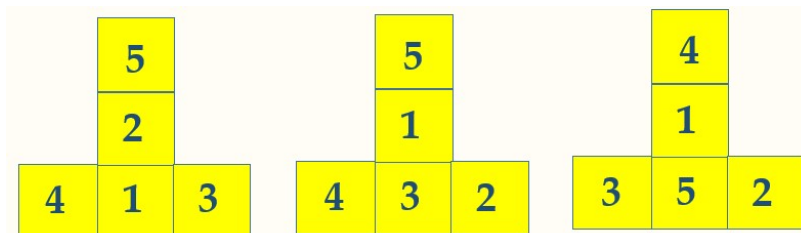


Đáp án: 3 số: 66, 99, 60.

Bài 3. Hãy viết các số 1, 2, 3, 4, 5 vào các ô vuông sao cho tổng các số trong các hàng bằng tổng các số trong cột.



Đáp án:



CLB TOÁN ONLINE MATHX

Chú ý rằng, ta có thể đổi chỗ các số 5 và 2; 4 và 3 ở hình thứ nhất. Cũng tương tự, ở hình thứ hai ta hoàn toàn có thể đổi chỗ vị trí số 5 và 1, 4 và 2...

Bài 4. Hãy viết vào 9 ô vuông dưới đây 3 chữ số 1, 3 chữ số 2 và 3 chữ số 3 sao cho tổng 3 số trong mỗi hàng, mỗi cột đều bằng 6.

Đáp án: Dưới đây là một cách điền, học sinh có thể có những cách điền khác. Có thể có nhiều cách làm khác nhau. Một cách đơn giản là ta điền lần lượt 1, 2, 3 ở cột đầu tiên, sau đó ta phân tích và điền tiếp các số ở các cột còn lại cho thỏa mãn đề bài.



CLB TOÁN

1	2	3
2	3	1
3	1	2

INE MATHX

Bài 5. Tìm số thay cho ô có ký hiệu *?

		*		
		
	2	2	4	
	1	1	1	3
0	1	0	1	2

Hướng dẫn:

Mỗi số ở hình vuông phía trên đều bằng tổng hai số ở hai hình vuông ngay dưới nó.

Đáp án: * = 10.



CLB TOÁN ONLINE MATHX



CLB TOÁN ONLINE MATHX



CLB TOÁN ONLINE MATHX