



MathX

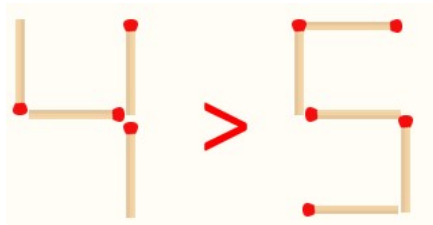
TOÁN TƯ DUY HÀNG TUẦN LỚP 3

THÁNG 8 – TUẦN 1 – ĐỀ BÀI

Chú ý: Học sinh làm bài, trình bày và so sánh với lời giải thầy gửi. Bài nào sai, các em nên làm lại để hiểu kỹ hơn nữa bài toán đó.

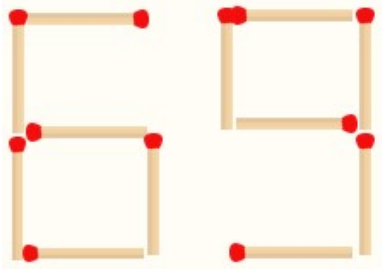
Kiên trì – bền bỉ nhất định sẽ hiệu quả!

Bài 1. Bạn An xếp que diêm thành 2 số và đã đặt dấu so sánh sai. Em hãy đổi chỗ chỉ 1 que diêm ở 1 số để có so sánh đúng (vẫn giữ nguyên dấu >)



CLB TOÁN ONLINE MATHX

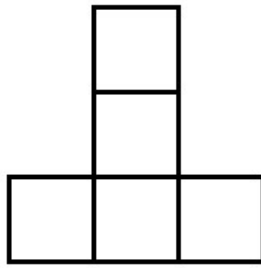
Bài 2. Đổi chỗ chỉ 1 que diêm ở một chữ số trong số 69, ta có thể có nhiều nhất mấy cách để được số mới có 2 chữ số?



Bài 3. Hãy viết các số 1, 2, 3, 4, 5 vào các ô vuông sao cho tổng các số trong các hàng bằng tổng các số trong cột.



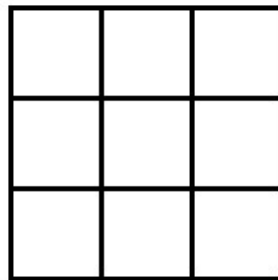
CLB TOÁN ONLINE MATHX



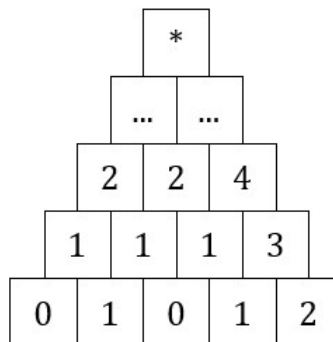
Bài 4. Hãy viết vào 9 ô vuông dưới đây 3 chữ số 1, 3 chữ số 2 và 3 chữ số 3 sao cho tổng 3 số trong mỗi hàng, mỗi cột đều bằng 6.



CLB TOÁN ONLINE MATHX



Bài 5. Tìm số thay cho ô có ký hiệu *?





CLB TOÁN ONLINE MATHX