



MathX

TOÁN TƯ DUY HÀNG TUẦN LỚP 3

THÁNG 7 – TUẦN 5 – ĐỀ BÀI

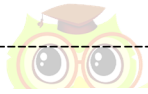
Chú ý: Học sinh làm bài, trình bày và so sánh với lời giải thầy gửi. Bài nào sai, các em nên làm lại để hiểu kỹ hơn nữa bài toán đó.

Kiên trì – bền bỉ nhất định sẽ hiệu quả!

Bài 1. Cho dãy hình bên dưới. Em hãy quan sát cẩn thận, tìm hai hình phù hợp còn thiếu đặt vào dấu chấm hỏi (?).

☼ → ☆ → ☾ → ? → ? → ☆ → ☾ → ◆
.....
.....
.....
.....

- (A) ☼ và ☾
- (B) ☆ và ☼
- (C) ◆ và ☼
- (D) ◆ và ☆
- (E) ◆ và ☾



Bài 2. Điền vào dấu “?”

□ △ ○ ○ △ ? △ ○ ? △

- A) ○ △
- B) □ △
- C) □ ○
- D) □ □
- E) △ ○

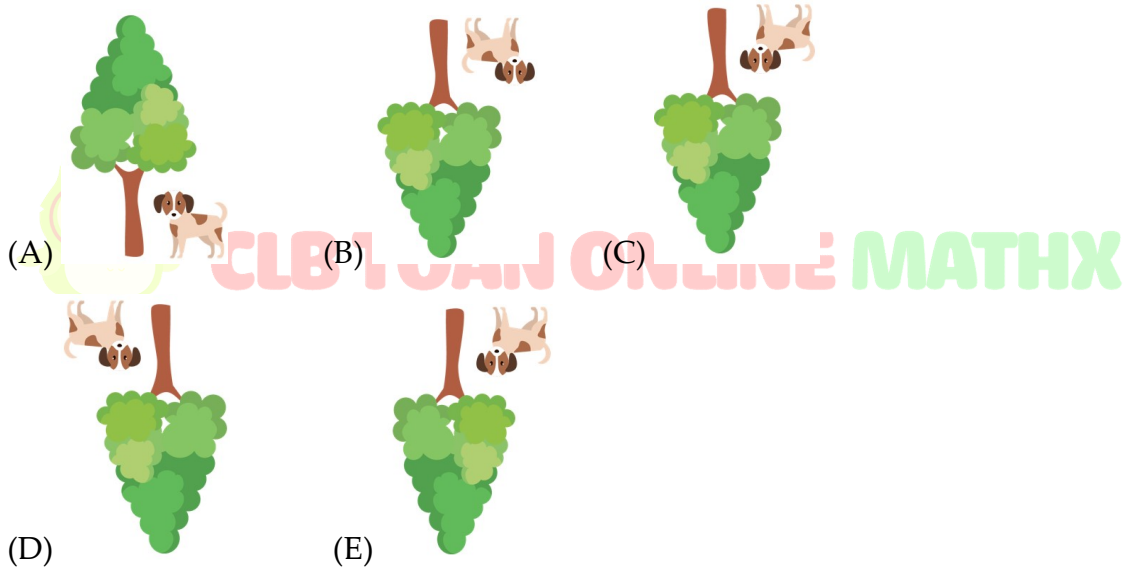
Bài 3. Vào một buổi chiều đẹp trời, bác Tân cùng chú chó Đốm đi câu cá. Bác Tân ngồi trên thuyền để câu cá trên sông, còn chú chó Đốm “hí hửng” đứng đợi bác ở gốc cầu trên bờ sông như hình vẽ.



CLB TOÁN ONLINE MATHX

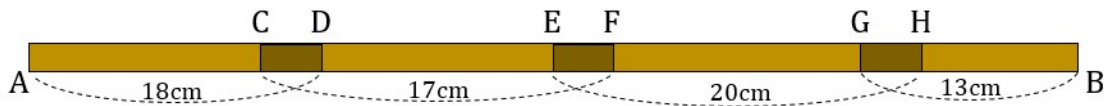


Hỏi bác Tân nhìn thấy cái cây và chú chó Đốm như thế nào trên mặt sông?




Bài 4. An hơn Bình 10 viên bi. Hùng cho An thêm 5 viên bi và cho Bình thêm 20 viên. Hỏi An và Bình ai có nhiều bi hơn và nhiều hơn bao nhiêu viên?

Bài 5. Ghép bốn thanh gỗ dài 18cm, 17cm, 20cm và 13cm thành một thanh gỗ dài 62cm (như hình vẽ). Biết các đoạn nối CD, EF và GH dài bằng nhau.



Độ dài mỗi đoạn nối là:

- (A) 1cm (B) 2cm (C) 3cm (D) 4cm (E) 5 cm



CLB TOÁN ONLINE MATHX

“ Phụ huynh và học sinh có thể tham khảo khóa học toán online theo lớp nhóm nhỏ với sĩ số 8 – 15 học sinh, học tương tác qua phần mềm ClassIn của CLB Toán Online MATHX – phụ trách chuyên môn bởi thầy Hiếu.

Xem chi tiết tại đây: <http://caulacbotuan.mathx.vn/>. Hotline: 0866.162.019”



CLB TOÁN ONLINE MATHX