



MathX

TOÁN TƯ DUY HÀNG TUẦN LỚP 3

THÁNG 7 – TUẦN 2 – ĐỀ BÀI

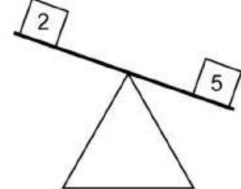
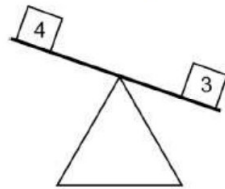
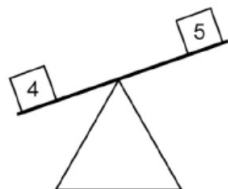
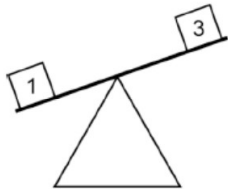
Chú ý: Học sinh làm bài, trình bày và so sánh với lời giải thầy gửi. Bài nào sai, các em nên làm lại để hiểu kỹ hơn nữa bài toán đó.

Kiên trì – bền bỉ nhất định sẽ hiệu quả!

Bài 1. Tính tổng: $A = 20 - 19 + 18 - 17 + \dots + 4 - 3 + 2 - 1$

Bài 2. Tính tổng: $B = 299 + 99 + 9$


Bài 3. Em hãy cho biết hộp nào nhẹ nhất.





CLB TOÁN ONLINE MATHX

Bài 4. Đồng hồ điện tử hiển thị dưới dạng HH:MM (hour: minute). Ví dụ: 18:55, 09:36. Nếu một đồng hồ 24 giờ (hiển thị từ 00:00 – 23:59) thì tổng các chữ số hiển thị lớn nhất có thể là bao nhiêu? (Ví dụ: 21:45 thì tổng các chữ số là $2 + 1 + 4 + 5 = 12$).



CLB TOÁN ONLINE MATHX

Bài 5. Bạn Hoa viết lên bảng phép toán: $32 + 24 + 3 + 13 = 107$, bạn ấy quên một chữ số không viết. Hỏi chữ số đó là chữ số nào và của số nào. Hãy viết lại phép toán đúng đó.



CLB TOÁN ONLINE MATHX