



MathX


TOÁN TƯ DUY HÀNG TUẦN LỚP 4

THÁNG 7 – TUẦN 5 – ĐỀ BÀI

Chú ý: Học sinh làm bài, trình bày và so sánh với lời giải thầy gửi. Bài nào sai, các em nên làm lại để hiểu kỹ hơn nữa bài toán đó.

Kiên trì – bền bỉ nhất định sẽ hiệu quả!

Bài 1. Một chiếc ô tô mỗi giờ đi được 80km. Hỏi trong 75 phút ô tô đó đi được bao nhiêu km?

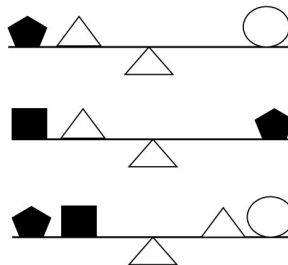
Bài 2. Tìm chữ số thay cho  ở phép toán sau:

$6 \times 7 \times 40 = 5 \times 8 \times \text{star}$



CLB TOÁN ONLINE MATHX


Bài 3. Có một số hình được đặt lên hai bên của một cái cân đĩa. Khi hai bên có khối lượng bằng nhau thì cân sẽ cân bằng:



Thứ tự cân nào dưới đây được sắp theo thứ tự nặng nhất đến nhẹ nhất?



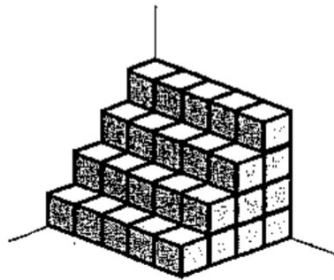
CLB TOÁN ONLINE MATHX



Bài 4. Hình dưới là hình ảnh của một bậc thang được xếp từ các viên gạch hình lập phương. Hỏi có tất cả bao nhiêu viên gạch hình lập phương?



CLB T



IE MATHX

Bài 5. Lớp 5A có 26 học sinh. 15 bạn thích ăn trà sữa Trân Châu Hạ Long, 16 bạn thích ăn kem MIXUE. Có 3 bạn không thích ăn cả trà sữa và kem, mà lại chỉ thích ở nhà học toán MATHX. Hỏi có bao nhiêu học sinh thích ăn cả trà sữa và kem?

From thầy Hiếu with Love ☺



CLB TOÁN ONLINE MATHX