



MathX

TOÁN TƯ DUY HÀNG TUẦN LỚP 2

THÁNG 7 – TUẦN 5 – ĐỀ BÀI

Chú ý: Học sinh làm bài, trình bày và so sánh với lời giải thầy gửi. Bài nào sai, các em nên làm lại để hiểu kỹ hơn nữa bài toán đó.

Kiên trì – bền bỉ nhất định sẽ hiệu quả!

Bài 1. Điền vào dấu “?”




- A) ○ △
- B) □ △
- C) □ ○
- D) □ □
- E) △ ○

---

---

---

---



CLB TOÁN ONLINE MATHX

Bài 2. Long có hai bó đũa. Bó thứ nhất có 10 chiếc và ít hơn bó thứ hai 6 chiếc. Hỏi bó thứ hai có bao nhiêu chiếc đũa?



- A) 4
- B) 6
- C) 8
- D) 10
- E) 16

---

---

---

---

---

---

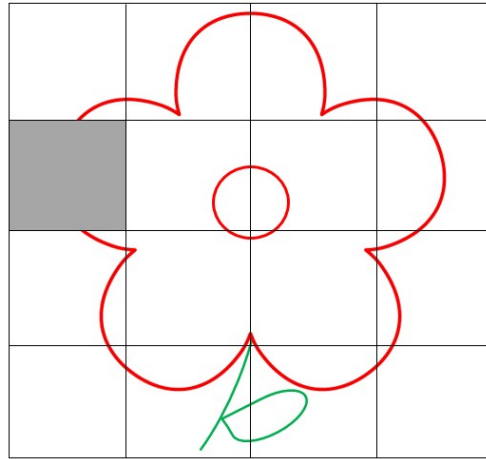
---

---

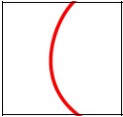
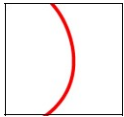
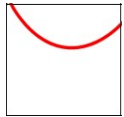
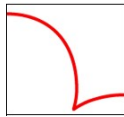
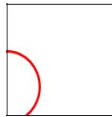



CLB TOÁN ONLINE MATHX

Bài 3. Có một bông hoa như hình bên. Bạn Lili cắt đi 1 ô vuông của hình.



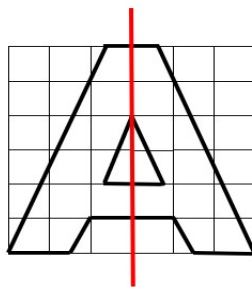
Ô vuông nào sẽ lắp vào hình để được đúng hình bông hoa?

- (A)  (B)  (C)  (D)  (E) 



CLB TOÁN ONLINE MATHX

Bài 4. Chữ A có “đặc điểm” là có một đường thẳng chia đôi chữ A thành hai nửa “đối xứng” nhau.



Trong các chữ: O, N, H, R, M, S, P, U, V, L như hình vẽ bên dưới, có mấy chữ có tính chất “đối xứng” như chữ A?

-----



CLB TOÁN ONLINE MATHX

