



MathX


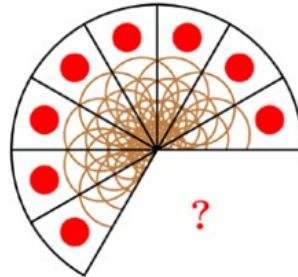
TOÁN TƯ DUY HÀNG TUẦN LỚP 2

THÁNG 7 – TUẦN 4 – ĐỀ BÀI


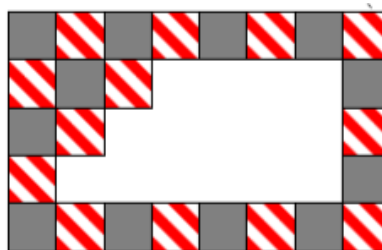
Chú ý: Học sinh làm bài, trình bày và so sánh với lời giải thầy gửi. Bài nào sai, các em nên làm lại để hiểu kỹ hơn nữa bài toán đó.

Kiên trì – bền bỉ nhất định sẽ hiệu quả!

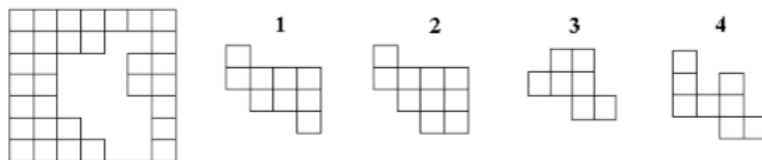
Bài 1. Chiếc bánh pizza được chia thành các phần bằng nhau. Hỏi có bao nhiêu phần còn thiếu ở chiếc bánh trên?



Bài 2. Một hình chữ nhật được tạo ra bởi 2 loại gạch: xám và sọc. Một số viên gạch bị mất đi (giống như hình). Hỏi có bao nhiêu viên gạch màu xám đã bị mất đi?



-----  
-----  
**Bài 3.** Hai hình nào có thể được dùng để lấp đầy khoảng trống trong hình bên trái?




- A. 1 và 3.      B. 2 và 4      C. 2 và 3.  
D. 1 và 4.      E. 3 và 4.

-----  
-----  
-----  
-----  
-----



**CLB TOÁN ONLINE MATHX**

**Bài 4.** Các viên gạch được xếp thành các hình khối theo quy luật như dưới đây:



**Hình 1**

**Hình 2**

**Hình 3**

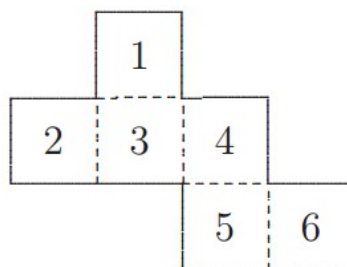
Hỏi hình thứ 10 được xếp từ bao nhiêu viên gạch?

-----  
-----  
-----  
-----  
-----  
-----



**CLB TOÁN ONLINE MATHX**

-----  
-----  
**Bài 5.** Một tờ giấy gấp dưới đây được gấp lại thành một khối hình lập phương (khối rubic)



Trên khối hình lập phương, số nào nằm trên mặt đối diện với số 6?

-----  
-----  
-----  
-----  
-----  
-----  
-----  
-----  
-----  
-----  
-----  
-----



**CLB TOÁN ONLINE MATHX**



**CLB TOÁN ONLINE MATHX**