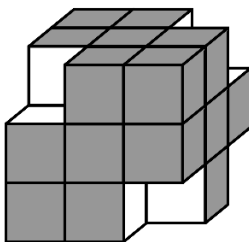


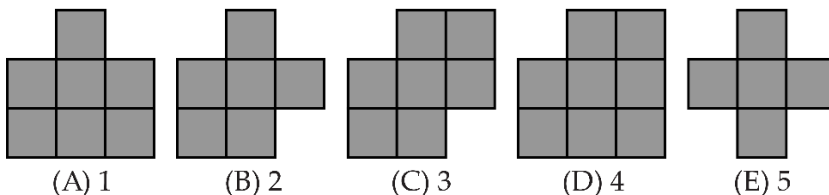
PHIẾU TƯ DUY MATHX – PHIẾU SỐ 04

Bài 1. Số 2018 có tổng các chữ số là $2 + 0 + 1 + 8 = 11$. Hỏi số bé nhất lớn hơn 2018 mà có tổng các chữ số bằng tổng các chữ số của số 2018 là số nào?

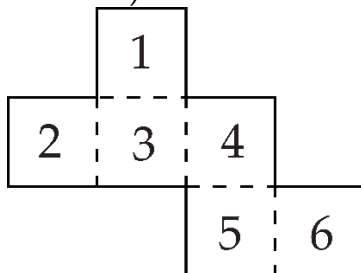
Bài 2. An làm một khối lập phương lớn từ 27 khối lập phương nhỏ màu trắng. An tô tất cả các mặt của khối lập phương lớn bằng màu xanh. Sau đó An lấy ra 4 khối lập phương nhỏ ở 4 góc như hình.



Khi sơn còn ướt, An in các mặt của khối lập phương lên giấy. Hỏi **có bao nhiêu** hình trong các hình dưới đây là hình mà An in ra được từ các mặt của khối lập phương?



Bài 3. Một tờ giấy gấp dưới đây được gấp lại thành một khối hình lập phương (khối rubic)



Trên khối hình lập phương, số nào nằm trên mặt đối diện với số 6?

Bài 4. Sắp xếp 3 tấm thẻ P, Q, R dưới đây theo thứ tự nào sẽ nhận được số có 5 chữ số lớn nhất có thể?

11

P

7

Q

10

R

Bài 5. Theo quy luật dưới đây, hình thứ 7 có bao nhiêu hình ngôi sao nhỏ?

